

МИНИСТЕРСТВО ОБРАЗОВАНИЯ И НАУКИ  
ДОНЕЦКОЙ НАРОДНОЙ РЕСПУБЛИКИ

ГОУ ДПО «ДОНЕЦКИЙ РЕСПУБЛИКАНСКИЙ ИНСТИТУТ  
ДОПОЛНИТЕЛЬНОГО ПЕДАГОГИЧЕСКОГО ОБРАЗОВАНИЯ»

**СБОРНИК**  
**заданий по географии**  
**родного края**

Донецк  
2018

*Рекомендовано  
Министерством образования и науки  
Донецкой Народной Республики  
(приказ № 725 от 23.08.2018г.)*

*Рекомендовано  
научно-методическим советом  
ГОУ ДПО «Донецкий РИДПО»  
(протокол № 3 от 04.06.2018г.)*

**Составители:**

**Панкина В.Е.**, методист отдела естественных дисциплин ГОУ ДПО «Донецкий РИДПО»

**Колесник Т.С.**, учитель математики МОУ «Гимназия № 6 г. Донецка»

**Научно-методическая редакция:**

**Чернышев А.И.**, ректор ГОУ ДПО «Донецкий РИДПО», кандидат педагогических наук, доцент, академик Международной академии наук педагогического образования

**Рецензенты:**

**Зарицкая В.Г.**, проректор по научно-педагогической работе ГОУ ДПО «Донецкий РИДПО», кандидат филологических наук, доцент

**Степанова Н.Н.**, заведующий районным методическим кабинетом отдела образования администрации Киевского района г. Донецка, учитель географии

**С 23 Сборник заданий по географии родного края / Сост. В.Е. Панкина, Т.С. Колесник – ГОУ ДПО «Донецкий РИДПО». – Донецк: Истоки, 2018. – 86 с.**

Сборник заданий представляет собой занимательные вопросы разной формы по географии родного края. Он окажет неоценимую помощь при подготовке к интеллектуальным соревнованиям по географии.

Обширные материалы значительно оживят процесс изучения предмета, научат ребят пользоваться уже полученными знаниями, разовьют их географическую память.

Большое внимание в сборнике уделено межпредметным связям, что позволит проводить интересные интегрированные уроки и мероприятия, повысить интерес к географии у тех ребят, которые решили специализироваться в других предметах школьной программы и областях знаний.

Предложенные задания рассчитаны на использование основных географических закономерностей на примере родного края. Прорабатывание сборника даст возможность школьникам подготовиться к олимпиадам, турнирам, государственной итоговой аттестации по географии.

Данное учебное пособие даст учащимся возможность дополнительно изучать географию родного края, как самостоятельно, так и под руководством учителя.

Учебное пособие рассчитано для широкого круга читателей, желающих пополнить свои знания по географии Донецкого края.



## СОДЕРЖАНИЕ

Теоретические задания.....	5
Практические задания .....	12
Математика родного края .....	21
Тестовые задания .....	27
Тестовые задания с множественным ответом.....	44
Тесты на соответствие.....	64
Тестовые задания на последовательности .....	73
Блиц задания .....	80



## *ПРЕДИСЛОВИЕ*

## **ПРЕДИСЛОВИЕ**

*Именно география является одной из основополагающих наук, которые определяют идентичность человека, которые привязывают человека к его стране, к Родине.*

Процветание Донецкого края возможно только тогда, когда каждый живущий в здесь человек будет искренне любить свою Отчизну. Любовь к Родине – это гордость за свою страну, это стремление активно участвовать в её развитии. Чтобы воспитать чувство любви к Родине, необходимо её знать.

Знать и любить свой край – это значит быть его истинным гражданином. Знание своей Родины – залог разумного хозяйствования. Географ и писатель Ю.К. Ефремов сформулировал эту мысль так: "Люблю и знаю. Знаю и люблю. И чем полней люблю, тем глубже знаю". Изучение родного края является одной из важнейших задач школьной географии. Именно географические знания о своей малой родине воспитывают патриота, гражданина, человека.

Знания о родном крае воспитывает любовь к своему краю, прививает интерес к познанию нового, формирует практические умения и навыки, способствует фундаментальному изучению природы, населению, хозяйства своей местности; осмыслению сложных закономерностей природы и общества на местном материале. В данном сборнике представлены задания по географии родного края, которые помогут развязать теоретические вопросы и практические умения.

Разные способы решения заданий позволяют развивать умение анализировать ситуации, строить план решения с учетом взаимосвязей между известными и неизвестными характеристиками, использовать справочный материал. Текстовые задачи с региональным компонентом объединены в тематические разделы, каждый из которых рассматривает задания определенного содержания.

Хотелось бы обратить внимание и на то, что сборник окажется помощником при подготовке к олимпиадам, турнирам, аттестации.



## ТЕОРЕТИЧЕСКИЕ ЗАДАНИЯ

1. Раскройте сущность методов, которыми вы будете пользоваться при изучении своей местности.
2. Охарактеризуйте основные особенности рельефа Донецкого края. Объясните факторы, которые их обусловили
3. Дайте оценку современному административно-территориальному делению Донецкого края. Как бы вы его изменили, если бы были причастны к этому процессу?
4. И в географии, и в истории многие ученые говорят о Великом шелковом пути. На каком континенте проходил этот путь, какие основные конечные объекты он связывал? В какой период времени он действовал? Какие основные товары перевозились по нему? Имеет ли отношение Великий шелковый путь к нашему краю?
5. Наша планета прошла долгий путь развития. Охарактеризуйте развитие Земли в палеозойской эре. Укажите периоды палеозойской эры и самые важные события. Как события палеозоя сказались на территории нашего края?
6. Объясните, существуют ли закономерности в размещении месторождений полезных ископаемых на территории Донецкого края. Раскройте это на примере месторождений различных полезных ископаемых. Можно ли утверждать, что все месторождения полезных ископаемых нашего края известны? Подтвердите свое мнение конкретными примерами.
7. Подумайте, можно ли без помощи линейки определить расстояние по карте между двумя объектами? Как? Приведите примеры на территории Донецкого края.
8. Представьте, что наш Донецкий край расположен в южном и западном полушариях. Определите, как изменились бы характеристики географического положения в данной ситуации.





### ТЕОРЕТИЧЕСКИЕ ЗАДАНИЯ

9. Мы все живём в современном глобальном мире, ежедневно, а порой и ежечасно ощущая на себе процессы глобализации, которые затрагивают самые разные сферы нашей повседневной жизни. Приведите пять примеров из своей жизни, свидетельствующие о процессах глобализации.
10. Представьте, что Азовское море – озеро. При каких условиях это возможно. Как изменятся характеристики Азовского моря, если оно станет озером.
11. Объясните роль физической географии как составной географической науки. Насколько знания физической географии Донецкого края могут быть полезными для вас.
12. Какие изменения произошли бы в климате Донецкого края, если бы Крымские горы переместились на южную границу нашего края?
13. Рельеф Донецкого края разнообразен. Объясните размещения основных типов рельефа на территории Донецкого края. Какие факторы способствовали разнообразному рельефу.
14. Проанализируйте историю географического изучения территории Донецкого края.
15. Охарактеризуйте изменения в рельефе Донецкого края, к которым привели экзогенные процессы.
16. Докажите, что Донецкий край принадлежит к территории с комфортным климатом.
17. Наш регион находится под воздействием разных воздушных потоков. Объясните ветровой режим Донецкого края.
18. Подумайте, на чем лучше сплавиться по реке Кальмиус, на плоту или на байдарке. Почему?
19. Подумайте, какую была бы современная природа Донецкого края, если бы около 9 тысяч лет назад не образовались бы проливы Босфор и Дарданеллы.
20. Начертите и объясните схему бризов Азовского моря.
21. Расскажите, как благодаря географическим исследованиям обогащаются сведения о природе Донецкого края.





22. На территории Донецкого края сосредоточено огромные запасы полезных ископаемых. Определите, на какие группы делятся полезные ископаемые Донецкого края по их использованию, дайте им характеристику.
23. Обоснуйте и предложите список природных или рукотворных объектов территории Донецкого края, которые вы отнесли бы к категории “чудеса родного края”.
24. Подумайте, как увековечена память известных краеведов Донецкого края.
25. Расскажите, как благодаря географическим исследованиям обогащаются сведения о природе Донецкого края.
26. Опишите закономерности между тектоническими структурами, формами рельефа и полезными ископаемыми на территории Донецкого края.
27. Определите, какие природные и антропогенные объекты на территории Донецкого края можно отнести к факторам, которые влияют на климатообразование. Назовите эти объекты.
28. В старину люди жили «по солнцу», а потом начали создавать механические часы и отказались от солнца. Почему? Проанализируйте положение Донецкого края относительно часовых поясов. Объясните переход на летнее и зимнее время.
29. Утверждают, что Донецкий край не использует все возможности географического положения. Дайте оценку неблагоприятных черт географического положения Донецкого края.
30. На примере Донецкого края охарактеризуйте строение земной коры на его территории. Назовите основные формы рельефа, соответствующие тектоническим структурам. Опишите закономерности размещения месторождений полезных ископаемых.
31. На примере территории Донецкого края охарактеризуйте проявления зональных закономерностей географической оболочки. Раскройте сущность каждой закономерности.
32. Определите и объясните, в какой период года наиболее активно проявляет свое действие ось Воейкова над территорией Донецкого края. Почему?





### ТЕОРЕТИЧЕСКИЕ ЗАДАНИЯ

33. Вы – рабочий уникального музея картографии. Вам как специалисту необходимо подготовить экскурсию в экспозиции "Картографическая проекция". Предложите выступление, которое раскроет сущность этого понятия, будет характеризовать виды картографических проекций, выявит положительные и отрицательные свойства.
34. Смоделируйте ситуацию, как изменились бы климат и природные условия на территории Донецкого края в целом, когда бы горные системы обрамляли её со всех сторон?
35. Обоснуйте, иметь очень большую территорию страны это хорошо или плохо? Докажите все «за» та «против».
36. Проанализируйте, как изменились функции г. Донецка за 150 лет истории его существования.
37. Национальный состав населения Донецкого края очень разнообразен. Объясните, с чем это связано.
38. Представьте, что Вам надо подготовить доклад на тему «Депопуляция и ее негативные последствия». Кратко, в виде тезисов, раскройте основные вопросы лекции. Дайте необходимые определения, разъяснения. Какие страны и почему следует, по Вашему мнению, рассмотреть как примеры. Каким примером может служить Донецкий край? Объясните.
39. В Интернете очень легко можно найти снимки ночной освещённости Донецкого края. Количество огоньков, их яркость и особенности их размещения различны и меняются от места к месту. О каких географических закономерностях, явлениях и процессах можно судить по густоте и степени освещённости разных территорий Донецкого края?
40. Какие районы нашего края и почему перспективны для использования энергии приливов, солнечной энергии и ветровой энергии. Имеются ли в нашем регионе электростанции, использующие эту энергию. Почему люди стали обращать большое внимание на использование вышеназванных нетрадиционных источников энергии?
41. Определите отрасли хозяйства Донецкого края, которые могут быть её точками экономического роста с учетом инновационных технологий, качества продукции, конкурентоспособности на мировом рынке.





42. Проанализируйте и охарактеризуйте на конкретных примерах формы организации производства. Приведите примеры на территории нашего края.
43. Предложите вариант размещения на территории Донецкого края нового металлургического комбината полного цикла. Обоснуйте свое решение.
44. Дайте характеристику современному естественному приросту населения Донецкого края.
45. Определите, зависит ли развитие страны и уровень жизни её населения от географического положения.
46. Назовите рекреационные ресурсы Донецкой области. Предложите меры, которые необходимо принять для того, чтобы они стали более привлекательными.
47. Сегодня обострилась проблема шахт. Какие социально-экономические последствия имеет процесс реструктуризации угольной промышленности Донбасса.
48. Как вы считаете, почему в Донецком крае на 1159 женщин приходится 1000 мужчин? Когда и почему сформировалась такая диспропорция.
49. Предложите формы производства, которые, на ваш взгляд, наиболее подходили для развития современной экономики Донецкого края.
50. Определите, какие проблемы возникают на современном этапе развития металлургического комплекса Донецкого края? Предложите свои варианты их решения.
51. Как вы считаете, в чем заключается разница между понятиями «трудовые ресурсы» и «экономически активное население»?
52. Как вы считаете, какие размышления учитываются при подборе площади для строительства нового города. Где на территории Донецкого края вы предложили бы строительство нового города?
53. Объясните закономерность распределения населения по территории Донецкого края.





## ТЕОРЕТИЧЕСКИЕ ЗАДАНИЯ

- 54.** Как за последние 20 лет изменилась численность населения Донецкого края? Какие причины этих изменений? Как вы оцениваете это явление, может такие изменения к лучшему? Например, в Норвегии численность населения составляет 5 млн. человек, а качество жизни – самое высокое в мире.
- 55.** Почему, по вашему мнению, Донецкий край имеет комфортные природные условия для развития сельского хозяйства, но не может полностью обеспечить себя сельскохозяйственной продукцией?
- 56.** Представьте себя министром экономики Донецкого края, Вас пригласили на пресс-конференцию. Первые вопросы (самые популярные) уже сформулированы. Подготовьте ответы на них:
- Согласны ли Вы, что нынешняя экономическая ситуация в регионе является кризисной?
  - Почему одни отрасли испытывают кризис больше, чем другие, какие это отрасли?
  - Какие отрасли имеют больше шанс выстоять?
  - Возможно, ли уменьшить следствия кризиса путем возврата предприятий в государственную собственность?
- 57.** Подумайте, нужно ли совершать реструктуризацию промышленности?
- 58.** Что такое город? Назовите самые большие города Донецкого края. По каким признакам отличаются наши города. Могут ли города менять свои функции. Приведите примеры.
- 59.** Территориальная структура хозяйства характеризуется наличием агломераций. Что такое агломерации? Какие их типы существуют в мире и в Донецком крае (приведите конкретные примеры). Охарактеризуйте области их специализации и возможности развития инновационных отраслей.
- 60.** Определите, в чем заключаются природные преимущества и недостатки расположения Донецкого края на Земле.
- 61.** Назовите и охарактеризуйте факторы, влияющие на специализацию хозяйств стран мира. Раскройте их действие на примере Донецкого края.





- 62.** Иногда название населенного пункта отражает специализацию территории на добыче какого-либо полезного ископаемого. Укажите названия таких городов и поселков, расположенных в Донецком крае. Какие из этих городов крупнейшие по количеству жителей? В честь, каких полезных ископаемых названо наибольшее количество населенных пунктов на территории Донецкого края?
- 63.** В нашем регионе проживает более 100 национальностей, объясните разнонациональный состав Донецкой области.
- 64.** Донбасс всегда был экономически развитым регионом, дайте характеристику факторам размещения производств, которые способствовали этому.
- 65.** Объясните специализацию Горловского машиностроительного центра на производстве горно-шахтного оборудования.
- 66.** Машиностроение важная отрасль в хозяйственном комплексе любой страны. Объясните, какую роль для развития Донецкого края играет машиностроение. Докажите на конкретных примерах.



## ПРАКТИЧЕСКИЕ ЗАДАНИЯ

### ПРАКТИЧЕСКИЕ ЗАДАНИЯ



1. Сколько соли содержит  $1\text{ м}^3$  воды Азовского моря, если его средняя солёность равна  $13,6\text{‰}$ ?
2. Определите координаты конечной точки, если проткнуть Землю в точке с координатами г. Донецка (длина дуги  $1^\circ$  г. Донецка  $74,6\text{ км}$ ) воображаемой осью, проходящей через центр планеты, далее от точки-антипода г. Донецка отсчитать  $3,7$  тыс км на запад и затем повернуть на север, пройти расстояние равное  $10^0$ .
3. Когда придёт телеграмма из г. Петропавловска-Камчатского в г. Киев, если она отправлена 1 января 2005 года в 0 ч. 35 мин., а время её передачи составляет 4 часа 15 мин.
4. Определите, с какой линейной скоростью движется точка земной поверхности, на которой расположен город Донецк, во время суточного вращения Земли (длина дуги  $1^\circ$  на 48-й параллели составляет  $74,6\text{ км}$ ).
5. Расстояние между двумя селами на плане, масштаб которого  $1: 400\ 000$ , составляет  $17\text{ см}$ . Каким будет это расстояние на плане с масштабом  $1:2\ 000\ 000$ ?
6. Расстояние между двумя селами на плане, масштаб которого  $1: 300\ 000$ , составляет  $22\text{ см}$ . Каким будет это расстояние на плане с масштабом  $1:1\ 000\ 000$ ?
7. Донецкое местное время – 12 часов. В пункте А – 16 часов 30 минут местного времени; в пункте Б – 5 часов поясного времени. Определите географическую долготу пунктов.
8. Покажите путь лесника на плане, масштаб которого  $1:10\ 000$ , если он прошел от дома лесника на юг  $700\text{ метров}$ , потом повернул на запад и прошел  $400\text{ метров}$ , затем на север и прошел в этом направлении  $350\text{ метров}$ . Определите азимут и расстояние от последней точки к дому лесника.
9. Егерь на лошади за 4 часа объезжает по периметру лесной массив квадратной формы со средней скоростью  $10\text{ километров}$  в час. Каков масштаб карты, если этот массив занимает на ней  $400\text{ см}^2$ ?





10. Определите географические координаты пункта, если известно, что в дни равноденствия полуденное Солнце находится там над горизонтом на высоте  $34^{\circ}$  (тень от предметов при этом падает на север), а местное время опережает время Гринвичского меридиана на 2 часа 40 минут.
11. Донецкий металлургический завод имеет мощность 3,5 млн. т чугуна в год. Какое количество железной руды (с содержанием железа 40%) приходится завозить на завод в течение года.
12. Определите, в каком из случаев будет дуть ветер сильнее, в каком направлении и почему:
  - 1) в точке А давление 763 мм в точке Б 758 мм;
  - 2) в точке А давление 755 мм в точке Б 762 мм.
13. На  $180^{\circ}$  меридиане только начался новый день — 5 октября. Определите местное время городов Донецк и Лондон.
14. Самолёт вылетел из г. Донецка на запад. С какой скоростью б он должен лететь, чтобы Солнце было над ним в одной точке.
15. По физической карте, используя картографическую сетку, определите расстояние в километрах и градусах от г. Донецка (на запад) до нулевого меридиана.
16. По физической карте, используя картографическую сетку, определите расстояние в километрах и градусах от г. Донецка (на восток) до  $180$  меридиана.
17. По физической карте, используя картографическую сетку, определите расстояние в километрах и градусах от г. Донецка (на юг) до южного полюса.
18. По физической карте, используя картографическую сетку, определите расстояние в километрах и градусах от г. Донецка (на юг) до экватора полюса.
19. По физической карте, используя картографическую сетку, определите расстояние в километрах и градусах от г. Донецка (на север) до северного полюса.





### ПРАКТИЧЕСКИЕ ЗАДАНИЯ

20. Определите атмосферное давление на вершине г. Роман-Кош, если на высоте 200 м оно в это время составляет 720 мм рт. ст.
21. Город Донецк имеет географические координаты  $48^{\circ}$  ю.ш.,  $37^{\circ}50'$  в.д. Определите координаты точки, которая будет расположена на диаметрально противоположной стороне земного шара.
22. Изобразите элементы рельефа по описанию: «Котловина вытянута с северо-запада на юго-восток. Абсолютная высота самой низкой точки 72,1 г, северо-западный склон крутой. Абсолютная высота окружающего рельефа – 110 м, горизонтали проведены через 10 м».
23. Сколько времени необходимо для перехода из одного села в другое, если расстояние между селами на карте с масштабом 1: 50 000 равно 20 см, а скорость ходьбы – 5 км/час.
24. 22 декабря в пункте N полуденная высота солнца  $66^{\circ}30'$ , а по продолжительности световой день заметно меньше, местное время отстает от местного времени Донецка на 7 часов 28 минут; территория там горная с высоты примерно 4000 м. Определите: а) координаты точки N; б) название государства, где он расположен.





29. Вы получили сообщение, что ваши знакомые вылетели из Лондона в 12 часов (время Великобритании). В котором часу вам необходимо приехать в аэропорт, чтобы встретить их в Донецке? (Время перелета длится 2 часа).
30. Определите, в каком масштабе выполнена карта, если расстояние между Киевом и Донецком на ней составляет 12 мм, а на местности это расстояние составляет 598 км.
31. Найдите разницу между поясным и местным временем м. Донецка.
32. Известно, что азимут точки В относительно точки А составляет  $45^{\circ}$ , точки С относительно точки В –  $270^{\circ}$ . Рассчитайте азимут точки А относительно точки С, если известно, что точки образуют прямоугольный треугольник.
33. Путнику нужно было пройти от деревни до домика лесника. На его карте это расстояние составило 84 мм, но та часть карты, где был написан масштаб, оторвалась. Путник позвонил товарищу, который определил по своей карте расстояние до деревни в 105 мм. Его карта имела масштаб 1:20000. Какой же масштаб у карты путешественника?
34. Назовите восточную крайнюю точку области и вычислите её географическую долготу, если известно, что в г. Донецке местное время составляет 14.00, а в крайней восточной точке в этот момент – 14.05.
35. Известно, что азимут точки В относительно точки А составляет  $45^{\circ}$ , точки С относительно точки В –  $270^{\circ}$ . Рассчитайте азимут точки А относительно точки С, если известно, что точки образуют прямоугольный треугольник.
36. Совершите путешествие по карте родного края, ответив на вопросы, и отметьте объекты на карте.



№ n/n	Вопрос
1.	Назовите населенный пункт, отмеченный точкой 1
2.	Обозначьте на карте месторождение мергеля
3.	Назовите географический объект, обозначенный точкой 2
4.	Назовите географический объект, обозначенный точкой 3
5.	Назовите крайнюю точку, обозначенную точкой 4
6.	Назовите месторождение полезных ископаемых, обозначенное точкой 5
7.	Назовите область-соседку, отмеченную точкой 6
8.	Назовите форму рельефа, отмеченную точкой 7
9.	Начертите русло и подпишите реку Кальмиус
10.	Обозначьте на контурной карте Старобешевское водохранилище



### ПРАКТИЧЕСКИЕ ЗАДАНИЯ

37. Совершите путешествие по карте родного края, ответив на вопросы, и отметьте объекты на карте.

<i>№ п/п</i>	<i>Вопрос</i>
1.	<i>Назовите населенный пункт, отмеченный точкой 1</i>
2.	<i>Назовите административный район, отмеченный точкой 2</i>
3.	<i>Обозначьте на карте город, в котором находится Старобешевская ТЭС</i>
4.	<i>Назовите географический объект, обозначенный точкой 4</i>
5.	<i>Назовите крайнюю точку, обозначенную точкой 5</i>
6.	<i>Назовите месторождение полезных ископаемых, обозначенное точкой 6</i>
7.	<i>Назовите область-соседку, отмеченную точкой 7</i>
8.	<i>Назовите электростанцию, отмеченную точкой 8</i>
9.	<i>Назовите районный центр, отмеченный точкой 9</i>
10.	<i>Обозначьте на контурной карте завод Азовмаш</i>

38. Обозначьте на контурной карте районы угледобычи и нефте-, газопроводы.



39. Обозначьте на контурной карте основные формы рельефа Донецкого края.

40. Определите относительную высоту между вершинами кургана Могилы Острой и Саур-Могилы.

41. Численность населения условной страны N на 1 января 2014 года составляла 100 млн. чел. Определите, какую стала численность населения (в млн. чел) на 1 января 2015 года, если показатели движения населения были такими: коэффициент рождаемости – 19‰; коэффициент смертности – 10‰; коэффициент иммиграции – 6‰; коэффициент эмиграции – 5‰.

42. Сколько времени необходимо для перехода из одного села в другое, если расстояние между селами на карте с масштабом 1: 50 000 равно 20 см, а скорость ходьбы – 5 км/ч.

43. Вычислите местное время в Донецке, если в Париже 12.00.

44. Обозначьте на контурной карте Донецкого края границы, крайние точки, географический центр области, соседние области и страны.

45. Обозначьте на контурной карте месторождения полезных ископаемых Донецкого края.





**ПРАКТИЧЕСКИЕ ЗАДАНИЯ**

*карта к 37 вопросу*





46. Рассчитайте географическую долготу пункта, если его местное время отстаёт от местного времени г. Донецка на 4 мин.

47. Постройте столбчатую диаграмму осадков по данным таблицы:

Месяц	Янв	Февр	Март	Апр	Май	Июнь	Июль	Авг	Сент	Окт	Ноябр	Дек
Кол-во ос., мм	25	37	45	51	58	63	75	82	39	41	27	22

48. Определите падение и уклон реки Кальмиус, если исток реки находится на высоте 222,7 м над уровнем моря, а устье – на высоте 0,4 м над уровнем моря, длина реки – 209 км.

49. Обозначьте на контурной карте Донецкого края внутренние воды.

50. Вычислите местное время в Донецке, если по местному времени в Киеве полдень (12 ч).

51. Определите данный вид масштаба и переведите его в другие виды масштаба М 1 : 500000.

52. Определите падение и уклон реки Северский Донец, если исток реки находится на высоте 200 м над уровнем моря, а устье – на высоте 5 м над уровнем моря, длина реки – 1053 км.

53. Определите разницу в местном времени между г. Киевом и г. Москвой.



54. Определите местное время в Донецке, если на нулевом меридиане местное время составляет 16.00 ч.

55. Определите, на каком меридиане будет 17.00., если Солнечное время в г. Донецке 13.00.

56. Обозначьте на контурной карте Донецкого края основные транспортные магистрали и транспортные узлы.

57. Определите географическую долготу пункта А, если местное время в этом пункте – 10 ч 30 мин, а в Лондоне – 8 ч.

58. Начертите рисунок топографических линий и углов, и подпишите их .

59. Рассчитайте, какой процент от земного шара составляет площадь Донецкого края.



### **ПРАКТИЧЕСКИЕ ЗАДАНИЯ**

- 60.** Обозначьте на контурной карте Донецкого края основные типы электростанций.
- 61.** Численность населения условной страны N на 1 января 2014 года составляла 100 млн. чел. Определите, какую стала численность населения (в млн. чел.) на 1 января 2015 года, если показатели движения населения были такими: коэффициент рождаемости – 15‰; коэффициент смертности – 11‰; коэффициент иммиграции – 3‰; коэффициент эмиграции – 8‰.
- 62.** Обозначьте на контурной карте Донецкого края основные типы населенных пунктов.
- 63.** Определите данный вид масштаба и переведите его в другие виды масштаба М 1 : 2 500 000.
- 64.** Обозначьте на контурной карте Донецкого края административные районы. Рассчитайте масштаб плана местности, если расстояние на плане составляет 3,5 см, а на местности это расстояние составляет 350 м.
- 65.** Рассчитайте атмосферное давление на высоте 3000 м, если над уровнем моря атмосферное давление составляет 760 мм рт. ст.
- 66.** Рассчитайте, на сколько минут местное время западной точки области будет отличаться от местного времени восточной точки.



## МАТЕМАТИКА РОДНОГО КРАЯ

**Вычислите устно удобным способом:**

1. Диаметр (мм) олимпийской штанги:

$$61 - (2 + 31) =$$

2. Максимальный вес гири в гиревом спорте (кг):

$$95 - (38 + 25) =$$

3. Стандартная длина хоккейной площадки (м):

$$122 - (44 + 22) =$$

**Вместо звездочек поставьте цифры:**

1. Ширина (см) баскетбольного щита Дворца спорта «Дружба»:

$$\begin{array}{r} * 2 * \\ + 5 3 \\ \hline 1 * 0 \end{array}$$

2. Количество зрительских мест на стадионе «Донбасс арена»:

$$\begin{array}{r} 4 5 2 * \\ + 6 2 * 8 \\ \hline 5 1 * 0 4 \end{array}$$



3. Год образования Юзовского спортивного общества:

$$\begin{array}{r} 1 1 6 * \\ + * 4 2 \\ \hline * 9 * 1 \end{array}$$



## МАТЕМАТИКА РОДНОГО КРАЯ

4. Год победы Юзовского спортивного общества в футбол-лиге Донбасса:

$$\begin{array}{r}
 * \ 7 \ 7 \ 0 \\
 - \ 8 \ * \ 7 \\
 \hline
 1 \ * \ 1 \ *
 \end{array}$$

5. Год, когда состоялся первый футбольный матч, после освобождения Донецка от фашистских захватчиков:

$$\begin{array}{r}
 2 \ 2 \ * \ 4 \\
 - \ * \ 4 \ 1 \\
 \hline
 1 \ 9 \ 4 \ *
 \end{array}$$

6. Высота (см) баскетбольного щита :

$$\begin{array}{r}
 2 \ 4 \ * \ 5 \\
 - \ * \ 3 \ 6 \ * \\
 \hline
 * \ 0 \ 5
 \end{array}$$

**Решите уравнения:**

1. Год основания футбольной команды «Шахтер»:

$$x - 284 = 1652$$

2. Минимальный вес гири в гиревом спорте (кг):

$$2x - 18 = 14$$

3. Количество игроков из довоенного состава команды «Шахтер» на 1945 год:

$$(25 \times 6) : x = 50$$



**Умножение на 10**

1. Столько раз футбольная команда «Металлург» становилась Бронзовым призером чемпионата Украины:

$$0,3 \times 10 =$$

2. Количество побед (золотых медалей) футбольной команды «Шахтер» в Кубке Украины:

$$0,7 \times 10 =$$



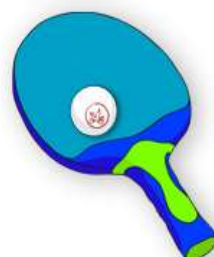
3. Длина грифа олимпийской штанги (м):  
 $0,22 \times 10 =$

### Деление на 10

1. Количество комментаторских кабинок на стадионе «Донбасс Арена»:  
 $460 : 10 =$
2. Высота стадиона «Донбасс Арена» от уровня поля до высшей точки составляет:  
 $540 : 10 =$
3. Максимальная ширина футбольного поля для проведения международных матчей (м):  
 $750 : 10 =$

### Умножение на 100

1. Год открытия стадиона «Донбасс Арена»:  
 $20,09 \times 100 =$
2. Вместимость стадиона «Металлург»:  
 $53 \times 100 =$
3. Расстояние от нижнего края баскетбольного щита (см) до пола или грунта:  
 $2,9 \times 100 =$



### Деление на 100

1. В 2004 году футбольная команда «Металлург» выиграла «Золотую бутсу» Украины за такое количество голов:  
 $1800 : 100 =$
2. Количество золотых медалей Лилии Подкопаевой:  
 $4500 : 100 =$
3. Масса волейбольного мяча (г):  
 $34000 : 100 =$



**Умножение на 1000**

4. Количество цветов в цветовой гамме мониторов стадиона «Донбасс Арена»:  
 $65 \times 1000 =$
5. В каком году вышла почтовая марка с изображением Лилии Подкопаевой:  
 $2,006 \times 1000 =$
6. Максимальная длина (м) футбольного поля для проведения международных матчей:  
 $0,11 \times 1000 =$

**Деление на 1000**

1. Количество побед (золотых медалей) футбольной команды «Шахтер» в чемпионате Украины:  
 $6000 : 1000 =$
2. Год победы Лилии Подкопаевой на Олимпийских играх в Атланте:  
 $1996000 : 1000 =$
3. Максимальный вес (гр) хоккейной шайбы:  
 $185000 : 1000 =$



**Вычитание десятичных дробей**

1. Рекордная высота (м) прыжка Сергея Бубки:  
 $30,98 - 24,83 =$
2. Общая высота (м) памятника Сергею Бубке:  
 $26,94 - 17,29 =$
3. Расстояние (м) между стойками футбольных ворот:  
 $56,08 - 48,76 =$

**Сложение десятичных дробей**

4. Величина площади (м<sup>2</sup>) мониторов стадиона «Донбасс Арена»:  
 $70,47 + 21,53 =$



5. Количество установленных мировых рекордов Сергеем Бубкой:  
 $22,01 + 12,99 =$
6. На такой высоте (м) находится баскетбольная корзина от пола:  
 $2,1 + 0,95 =$

#### Деление десятичных дробей

4. Один из спортивных элементов Лилии Подкопаевой никто из гимнастов повторить не может. На такое количество градусов совершала поворот Лилия Подкопаева при выполнении двойного сальто вперед:  
 $655,2 : 3, 64 =$
1. Количество стадионов в Донецке:  
 $3889,5 : 777,9 =$
2. Минимальная высота зала (м), необходимая для игры в баскетбол:  
 $104,3 : 14,9 =$

#### Умножение десятичных дробей

1. Размер ледового катка «Марабушта» ( $m^2$ ):  
 $250 \times 4,5 =$
2. Год открытия первого стадиона «Шахтер»:  
 $880 \times 2,2 =$
3. Высота волейбольной сетки (см):  
 $165 \times 1,2 =$



#### Реши пример

1. Год победы Сергея Бубки на Олимпийских играх:  
 $5067,3 : 2,1 - 1827,5 : 4,3 =$
2. Год основания футбольной команды Донецка «Металлург»:  
 $(2412,08 : 0,88 - 2764 : 4) - 54 =$
3. Масса (кг) грифа олимпийской штанги:  
 $(9,75 : 0,75 + 13 : 2,6) + 2 =$



**Преврати смешанное число в десятичную дробь**

1. Максимальная окружность волейбольного мяча (см):

$$68 \frac{5}{10} =$$

2. Толщина (см) хоккейной шайбы:

$$2 \frac{54}{100} =$$

3. Диаметр шайбы (см):

$$7 \frac{62}{100} =$$



**Проценты. Сколько процентов составляют от числа?**

- 0,15  
Ширина баскетбольного поля (м)
- 0,26  
Ширина хоккейного поля (м)
- 0,28  
Длина баскетбольного поля (м)



## ТЕСТОВЫЕ ЗАДАНИЯ

1. К какой группе источников краеведческих знаний относятся географические карты и атласы?
 

1) письменные	2) устные
3) вещественные	4) изобразительные
  
  2. Выберите методы краеведческих исследований:
 

1) картографический	2) физический
3) метод наблюдений	4) метод анкетирования
5) химический	6) архивный метод
7) магнитометрический	8) радиометрический
  
  3. С какими науками связано краеведение:
 

1) этнография	2) астрономия
3) география	4) история
5) догматика	6) политология
- 
4. При планировании туристического похода вы воспользуетесь:
 

1) топографической картой	2) рисунками местности
3) фотографиями местности	4) музейными экспонатами
  
  5. Краеведение – это:
 

1) изучение материка	2) познание родного края
3) путешествие по стране	4) рисунки о родном крае
  
  6. Площадь Донецкого края составляет:
 

1) 24,5 тыс. км <sup>2</sup>	2) 25,5 тыс. км <sup>2</sup>	3) 26,5 тыс. км <sup>2</sup>
------------------------------	------------------------------	------------------------------
  
  7. Сколько административных районов входит в состав нашего края?
 

1) 18	2) 17	3) 16
-------	-------	-------
  
  8. Самая протяженная граница территории Донецкого края с:
 

1) Днепропетровской обл.	2) Харьковской обл.	3) Луганской обл.
--------------------------	---------------------	-------------------
  
  9. Местное время западной точки нашего края отстает от местного времени восточной точки на:
 

1) 5 мин	2) одинаковое	3) 12 мин.
----------	---------------	------------





23. 22 июня самая длинная ночь – в:  
 1) Святогорске; 2) Донецке; 3) Мариуполе; 4) Угледаре.
24. Кратчайшее расстояние от Донецка до Северного полярного круга (в км):  
 1) 4240; 2) 2260; 3) 1920; 4) 2056.
25. Самой высокой формой рельефа Донецкой области является:  
 1) Донецкий кряж  
 2) Приазовская низменность  
 3) Приазовская возвышенность.
26. Из этой горной породы получают более 100 видов веществ. Например: газ, бензол, нафталин, аммиак, взрывчатку, краски, аспирин и даже духи.  
 1) ртуть 2) уголь 3) доломиты
27. Наивысшей точкой Донецкой области является:  
 1) могила Мечетная 2) могила Гончариха 3) могила Острая
28. Донецкий каменноугольный бассейн сформировался в:  
 1) Кайнозойскую эру б) Мезозойскую эру в) Палеозойскую эру
29. В тектоническом строении Приазовской возвышенности соответствует:  
 1) Украинский щит  
 2) Днепровско-Донецкая впадина  
 3) Воронежский массив
30. Древнейшей горной породой, сформировавшейся на территории области, является:  
 1) уголь 2) гнейс 3) мел
31. В тектоническом строении выход кристаллических пород на поверхность формирует:  
 1) чехол 2) плиту 3) щит
32. Днепровско-Донецкая впадина сложена:  
 1) вулканическими породами  
 2) метаморфическими породами  
 3) осадочными породами
33. К топливным полезным ископаемым относится:  
 1) ртуть 2) уголь 3) мергель







45. Полезное ископаемое Никитовки:  
 1) уголь; 3) медные руды;  
 2) ртутные руды; 4) соль.
46. Город, климат которого является более континентальным по сравнению с климатом трёх других населённых пунктов:  
 1) Донецк; 2) Варшава; 3) Париж; 4) Лондон.
40. Последний по времени геологический период кайнозойской эры:  
 1) палеогеновый; 3) неогеновый;  
 2) антропогеновый; 4) меловой.
47. Определите продолжительность дня, если горизонтальный угол между точками восхода и захода Солнца составляет 180°:  
 1) 5 ч 2) 9 ч 3) 12 ч 4) 18 ч
48. 23. Определите масштаб карты, если улица длиной 2 км изображена на ней линией 8 см.  
 1) 1:250; 2) 1: 2500; 3) 1: 25000; 4) 1: 25.
49. Рассчитайте использование воды (в м<sup>3</sup>/с), если скорость реки – 1,2 м/с, ее ширина – 40 м, а средняя глубина – 2 м:  
 1) 24; 2) 80 3) 96; 4) 55
50. Рассчитайте площадь хвойного леса (в га), если на карте с масштабом 1:50 000 он занимает площадь 6,2 см<sup>2</sup>:  
 1) 155; 2) 10; 3) 200; 4) 55.
51. Расстояние 1 см на географической карте 1:1 000 000 на местности составляет:  
 а) 10 км б) 100 км в) 1 км г) 1000 км
52. В каком варианте правильно указаны координаты г. Донецка:  
 а) 46° 52' с.ш. 37° 20' в.д.; б) 49° 12' с.ш. 38° 10' в.д.;  
 в) 70° с.ш. 30° 22' в.д.; г) 48° с.ш. 37° 47' в.д.
53. Какова действительная протяжённость маршрута, если на карте масштаба 1:120 000 она составляет 5 см:  
 а) 600 м; в) 60 км;  
 б) 6 км; г) 6 600 м.
54. Территориальные воды – это полоса моря шириной в:  
 а) 340 м; в) 7 миль;  
 б) 5 км; г) 12 миль.








65. К строительным полезным ископаемым относится:  
 1) мел;                      2) уголь;                      3) сера;                      4) известняк.
66. В каком варианте правильно указаны координаты крайней южной точки Донецкого края?  
 1)  $46^{\circ} 52' \text{ с.ш. } 37^{\circ} 20' \text{ в.д.};$                       2)  $49^{\circ} 12' \text{ с.ш. } 38^{\circ} 10' \text{ в.д.};$   
 3)  $70^{\circ} \text{ с.ш. } 30^{\circ} 22' \text{ в.д.};$                       4)  $45^{\circ} 52' \text{ с.ш. } 45^{\circ} \text{ в.д.}$
67. Какой учёный предложил картографическую проекцию, которая является одной из основных до сих пор?  
 1) Меркатор;                      2) Птолемей;  
 3) Эратосфен;                      4) Пифагор.
68. Какой угол соответствует высоте Полярной звезды над горизонтом Донецка?  
 1) 560                      2) 150                      3) 480  
 4) 900
69. Какова разница во времени между западной и восточной точками Донецкой области?  
 1) 5 мин                      2) 12 мин                      3) 8 мин                      4) 20 мин
70. Наибольшее количество солнечной радиации Донецкая область получает:  
 1) 22 июня                      2) 22 сентября                      3) 23 марта
71. Циклоны – это атмосферные вихри в центре с:  
 1) высоким давлением  
 2) низким давлением  
 3) давление значения не имеет
72. Какие воздушные массы формируют климат Донецкого края:  
 1) тропические  
 2) умеренные континентальные  
 3) умеренные морские
73. Определите температуру на Саур Могиле, если на уровне моря  $+18^{\circ}\text{C}$ :  
 1)  $200\text{C}$                       2)  $16,40\text{C}$                       3)  $180\text{C}$
74. Ось Воейкова проходит через:  
 1) юг нашего края                      2) западную часть                      3) север нашего края





## ТЕСТОВЫЕ ЗАДАНИЯ

75. Характерной чертой антициклона является:  
1) *восходящие потоки воздуха*  
2) *область низкого давления*  
3) *сухая погода летом, морозная – зимой*
76. На территории Донецкого края выпадает:  
1) *более 600 мм осадков*                      2) *250 мм*                      3) *450 мм*
77. Атмосферное давление на вершине Могилы Гончарихи относительно уровня моря:  
1) *понижится на 27 мм рт ст*  
2) *останется не изменится*  
3) *повысится на 27 мм рт ст*
- 
78. Коэффициент увлажнения на территории Донецкого края:  
1) *1*                      2) *< 1*                      3) *> 1*
79. Наибольший дефицит влажности воздуха на территории нашего края наблюдается:  
1) *летом*                      2) *осенью*                      3) *весной*
80. На побережье Азовского моря преобладают:  
1) *муссоны*                      2) *пассаты*                      3) *бризы*
81. К неблагоприятным климатическим явлениям Донецкого края:  
1) *цунами*                      2) *суховеи*                      2) *таяние снега*
82. Характерной чертой умеренного пояса является:  
1) *смена времен года*  
2) *влажная погода*  
3) *засушливая погода*
83. Климат за последние 100 лет изменился в сторону:  
1) *похолодания*                      2) *потепления*                      2) *не изменился*
84. Для составления розы ветров необходимо знать:  
1) *температуру и направление ветра*  
2) *направление ветра и атмосферное давление*  
3) *направление ветра и количество дней*
85. Река, которая относится к бассейну Черного моря:  
1) *Северский Донец*                      2) *Кальмиус*                      3) *Самара*



86. По преданию битва в повести «Слово о полку Игореве» происходила на реке:  
1) *Северский Донец*                      2) *Кальмиус*                      3) *Кальчик*
87. Питание рек Донецкого края большей частью:  
1) *дождевое*                      2) *подземное*                      3) *ледниковое*
88. Самое большое падение реки имеет:  
1) *Кальмиус*                      2) *Грузской Еланчик*                      3) *Бахмут*
89. Большую площадь по водоснабжению в Донецком крае имеет:  
1) *канал Северский Донец-Донбасс*  
2) *канал Днепр-Донбасс*
90. Притоком Северского Донца является:  
1) *Самара*                      2) *Миус*                      3) *Казенный Торец*
91. По происхождению Соленые озера Донецкой области:  
1) *карстовые*                      2) *старицы*                      3) *лиманьные*
92. Наибольший порог в Восточной Европе находится на реке:  
1) *Бахмут*                      2) *Казенный Торез*                      3) *Крынка*
93. Длина реки Кальмиус:  
1) *209 км*                      2) *154 км*                      3) *345 км*
94. Межень на реках Донецкого края приходится на:  
1) *март – апрель*                      2) *август – сентябрь*
95. Водоразделами речных бассейнов служат:  
1) *границы областей*  
2) *возвышенности рельефа*  
3) *притоки соседних рек*
96. Основной тип происхождения озер Донецкого края – старица – это:  
1) *песчаный карьер*  
2) *карстовая воронка*  
3) *участок русла в пойме реки*
97. Основные водоносные горизонты Донецкого края приурочены к:  
1) *юрским и меловым отложениям*  
2) *неогеновым отложениям*  
3) *архейским отложениям*









## ТЕСТОВЫЕ ЗАДАНИЯ

**118.** Характерными представителями животного мира нашего края являются:

- 1) летучие мыши, землеройки, суслики
- 2) олени, лисы, зайцы
- 3) антилопа, сайгак, тарпан

**119.** Видовой состав органического мира более разнообразен в районе:

- 1) Северского Донца
- 2) Приазовья
- 3) центральной части области

**120.** Эндемик это:

- 1) животное или растение, сохранившееся как пережиток древних эпох
- 2) растение или животное, проживающее лишь в одном определенном районе мира
- 3) редкое растение или животное

**121.** К представителям лесной растительности, которые характерны для нашей области относятся:

- 1) дуб, ольха, тополь, клен
- 2) кедр, сосна, ель, вяз
- 3) магнолия, клен, ясень, акация



**122.** Реликт это:

- 1) животное или растение, сохранившееся как пережиток древних эпох
- 2) растение или животное, проживающее лишь в одном определенном районе мира
- 3) редкое растение или животное

**123.** Представителям органического мира Донецкой области, которые занесены в Европейскую Красную книгу относятся:

- 1) астрагал шерстистоцветковый, ковыль Залесского, дрофа
- 2) ромашка лекарственная, цикорий, орёл-могильник
- 3) одуванчик обыкновенный, василек луговой, пиявка медицинская

**124.** Категории видов растительного и животного мира, занесенные в Красную книгу:

- |                    |                           |              |
|--------------------|---------------------------|--------------|
| 1) исчезающие      | 2) исчезающие             | 3) редчайшие |
| 4) неопределенные  | 5) недостаточно известные |              |
| 6) восстановленные | 7) все категории          |              |



125. На территории нашего края преобладают представители:

- 1) *лесной растительности*
- 2) *степной растительности*
- 3) *водной растительности*

126. На территории Донецкого края солончаковая растительность сформировалась в районах:

- 1) *побережья Азовского моря*
- 2) *Святогорья*
- 3) *Северского Донца*

127. К перелетным птицам Донецкого края относятся:

- 1) *дрофа, сорока, ворона*
- 2) *воробей, синица, снегирь*
- 3) *аист, грач, скворец*



128. В прошлом веке в Приазовских степях водились животные, которых сегодня уже не сможем сегодня увидеть:

- 1) *волк, заяц, лиса*
- 2) *тарпан, сайгак, антилопа*
- 3) *еж, суслик, мышь*

129. Представители растительного мира Донецкого края сосна меловая и граб относятся к:

- 1) *эндемикам*
- 2) *реликтам.*

130. Что из перечисленного не является природным комплексом:

- 1) *степь*
- 2) *плавательный бассейн*
- 3) *луг*

131. Компонентом природного комплекса является:

- 1) *автомобиль*
- 2) *река*
- 3) *дом*

132. В результате изменения свойств одного из компонентов в природном комплексе произойдут следующие изменения:

- 1) *разрушится*
- 2) *изменится частично*
- 3) *останется неизменным*

133. Для степной природной зоны характерны:

- 1) *травянистая растительность и чрезмерное увлажнение*
- 2) *древесная растительность и достаточное увлажнение*
- 3) *наличие грызунов и недостаточное увлажнение*



## ТЕСТОВЫЕ ЗАДАНИЯ

- 134.** Азональными типами ландшафтов Донецкого края являются:  
1) плавневые лугово-степные      2) степные      3) лесостепные
- 135.** Фактор, который является решающим при выделении типов ландшафтов:  
1) соотношение тепла и влаги  
2) состав горных пород в антропогене  
3) единство почвенно-растительного покрова
- 136.** Пресноводные рыбы, мигрирующие из рек в Азовское море:  
1) осетр, лещ, судак  
2) карась, пескарь, плотва  
3) кефаль, сельдь, щука
- 137.** Группа ландшафтов, характерная для Донецкого края:  
1) лесовые сильно расчлененные возвышенности с оврагами и балками  
2) лесовые сильно расчлененные равнины с оврагами и балками, с выходом кристаллических пород  
3) лиманно-морские солончаковые равнины
- 138.** Современные ландшафты Донецкого края сформировались в:  
1) четвертичный период  
2) неогеновый период  
3) палеогеновый период
- 139.** Природные комплексы формируются благодаря взаимодействию:  
1) климата и рельефа  
2) горных пород и органического мира  
3) всех компонентов природы
- 140.** Донецкий край расположен в пределах:  
1) северостепной подзоны  
2) среднестепной подзоны  
3) южнестепной подзоны
- 141.** Группа ландшафтов характерная для Приазовской низменности:  
1) лесовые сильно расчлененные возвышенности с оврагами и балками  
2) лесовые равнины с лугово-черноземными почвами  
3) лиманно-морские солончаковые равнины





142. Единицы зональных ландшафтов:

- 1) пояс, зона, подзона
- 2) страна, пояс, область
- 3) край, область, район

143. Для степной природной зоны Донецкого края характерны:

- 1) типчаково-ковыльные ландшафты
- 2) байрачные ландшафты
- 3) лугово-болотные ландшафты

144. Лесостепной ландшафт в нашего края представлен на:

- 1) Приазовской возвышенности
- 2) Донецком кряже
- 3) Приазовской низменности.

145. Причиной возникновения кризисной геоэкологической ситуации в нашем крае является:

- 1) техногенная нагрузка
- 2) засушливый климат
- 3) малая обеспеченность водными ресурсами

146. К неблагоприятным природным процессам, которые приводят к деградации почв, относятся:

- 1) град
- 2) заморозки
- 3) суховеи
- 4) пыльные бури



147. Экологические проблемы, которые возникают вследствие работы автомобильного транспорта:

- 1) снижение плодородия почв
- 2) загрязнение атмосферного воздуха
- 3) образование карьеров

148. Реки нашего края с наименьшей степенью загрязнения протекают в:

- 1) центральной части края
- 2) южной части края
- 3) северной части края

149. Экологический след – это:

- 1) определенная территория, которую использует человек в своей жизни
- 2) наиболее загрязненная территория
- 3) наименее загрязненная территория



## ТЕСТОВЫЕ ЗАДАНИЯ

- 150.** Природоохранный объект Каменные Могилы относится к категории:
- 1) заповедники
  - 2) заказники
  - 3) региональные ландшафтные парки
- 151.** Причиной обмеления малых рек Донецкого края является:
- 1) рельеф
  - 2) загрязнение почв
  - 3) небольшое количество лесных насаждений
- 152.** Выберите комплекс природоохранных мероприятий, проводимый в нашем крае:
- 1) регулирование водного режима почв
  - 2) борьба с техногенными подтоплениями
  - 3) борьба с ветровой и водной эрозией
- 153.** Высшей формой охраны природных территорий, в которых исключается хозяйственная деятельность, является:
- 1) заказник
  - 2) заповедное урочище
  - 3) памятник природы
  - 4) заповедник
- 154.** К природоохранному фонду Донецкого края относятся:
- 1) технопарки
  - 2) зеленые зоны городов
  - 3) региональные ландшафтные парки
  - 4) охотничьи хозяйства
- 155.** Инновационным направлением работы Донецкого ботанического сада является:
- 1) промышленная ботаника
  - 2) техногенная растительность
  - 3) промышленная зоология
- 156.** Административный район, в котором находится заповедник Хомутовская степь:
- 1) Володарский
  - 2) Славянский
  - 3) Новоазовский
  - 4) Тельмановский





157. Дружковские окаменевшие деревья относятся к:

- 1) биологическим памятникам природы
- 2) гидрологическим памятникам природы
- 3) геологическим памятникам природы

158. Какой компонент природного комплекса охраняется в заповеднике «Меловая флора»:

- 1) древний вулкан юрского периода
- 2) целина типчаково-ковыльной степи
- 3) курганы кочевников и каменные бабы
- 4) растительность на меловых обнажениях

159. В каком природоохранном объекте сохраняются эталоны целинных разнотравно-типчаковых-ковыльных степей:

- 1) Святые горы
- 2) Хомутовская степь
- 3) Каменные Могилы.





## ТЕСТОВЫЕ ЗАДАНИЯ С МНОЖЕСТВЕННЫМ ОТВЕТОМ



1. Выберите, что характеризует географическое положение Донецкого края:
  - А. Находится в центральной Европе
  - Б. С юга омывается водами Азовского моря
  - В. На северо-востоке граничит с Ростовской областью (Россия)
  - Г. На севере граничит с Харьковской областью Украины
  - Д. На юге омывается водами Черного моря
  - Е. Крайней западной точкой является с. Верхний Кут Великоновоселовского района
  - Ж. Географический центр области находится в с. Пески Ясиноватского района
2. Назовите представителей степной зоны Донецкого края:
  - А. Благородный олень
  - Б. Лось
  - В. Тарпан
  - Г. Степной хорек
  - Д. Мышь-полевка
  - Е. Дикий кот
  - Ж. Суслик
3. Укажите правильное соотношение «Отрасль промышленности – выпускаемая продукция»:
  - А. Легкая промышленность – бумага
  - Б. Пищевая промышленность – зерновые культуры
  - В. Лесохимическая промышленность – целлюлоза
  - Г. Машиностроение – свеклоуборочный комбайн
  - Д. Промышленность строительных материалов – кирпич
  - Е. Черная металлургия – сталь
  - Ж. Топливная промышленность – электроэнергия
4. Из перечня топонимов выберите те, в которых отражены фамилии известных людей родного края:
  - А. Торез
  - Б. Славянск
  - В. Иловайск
  - Г. Артемовск
  - Д. Краматорск





*Е. Дружковка  
Ж. Доброполье*

5. Назовите представителей растительного мира степной зоны Донецкого края:
- А. Тонконог*
  - Б. Меловая сосна*
  - В. Типчак*
  - Г. Дуб*
  - Д. Ковыль*
  - Е. Ольха*
  - Ж. Ясень*
6. Укажите три самые многочисленные национальности, проживающие на территории Донецкого края:
- А. Украинцы*
  - Б. Татары*
  - В. Греки*
  - Г. Армяне*
  - Д. Молдаване*
  - Е. Русские*
  - Ж. Болгары*
7. Укажите народы, которые проживали на территории Донецкого края:
- А. Индейцы*
  - Б. Скифы*
  - В. Викинги*
  - Г. Сарматы*
  - Д. Алеуты*
  - Е. Киммерийцы*
  - Ж. Пигмеи*
8. Различают следующие виды масштабов:
- А. Линейный*
  - Б. Контурный*
  - В. Численный*
  - Г. Именованный*
  - Д. Реальный*
  - Е. Уменьшенный*
  - Ж. Средний*





## ТЕСТОВЫЕ ЗАДАНИЯ С МНОЖЕСТВЕННЫМ ОТВЕТОМ

9. Выберите из перечня центры угледобычи:
- А. Славянск*
  - Б. Гранитное*
  - В. Шахтерск*
  - Г. Снежное*
  - Д. Часов Яр*
  - Е. Торез*
  - Ж. Новоазовск*
10. Укажите характеристики Азовского моря:
- А. Относится к бассейну Атлантического океана*
  - Б. Прозрачность вод моря высокая*
  - В. Через Керченский пролив соединяется с Черным морем*
  - Г. Максимальная глубина моря – 2210 м*
  - Д. Основным течением является круговое течение вдоль берегов моря против часовой стрелки*
  - Е. Средняя глубина моря – 1240 м*
  - Ж. Береговая линия сильно изрезана*
11. Из перечисленных городов выберите те, в которых проживает более 100 тыс. чел.:
- А. Марьинка*
  - Б. Волноваха*
  - В. Краматорск*
  - Г. Макеевка*
  - Д. Новоазовск*
  - Е. Мариуполь*
  - Ж. Селидово*
12. К сфере материального производства (производственной сфере) относятся:
- А. Промышленность*
  - Б. Здравоохранение*
  - В. Сельское хозяйство*
  - Г. Искусство*
  - Д. Связь*
  - Е. Жилищно-коммунальное хозяйство*
  - Ж. Управление и оборона*
13. Выберите неправильные утверждения:
- А. Главная река Донецкой области – Северский Донец*
  - Б. Большинство рек нашего края относятся к бассейну Черного моря*
  - В. Казенный Торез – река в южной части области*
  - Г. К бассейну Азовского моря относятся реки Кальмиус и Миус*





*Д. Бахмут – приток Казенного Торца*

*Е. Миус – самая длинная река южного склона Донецкого кряжа*

*Ж. К бассейну реки Днепр относятся реки Самара, Волчья, Бык, Соленая*

**14.** Из перечня выберите озера, которые относятся к озерам Донецкого края:

*А. Синевир*

*Б. Поопо*

*В. Подпесочное*

*Г. Ялуг*

*Д. Чернецкое*

*Е. Балхаш*

*Ж. Репное*

**15.** Укажите центры развития цементной промышленности:

*А. Донецк*

*Б. Макеевка*

*В. Ясиноватая*

*Г. Амвросиевка*

*Д. Краматорск*

*Е. Енакиево*

*Ж. Дебальцево*



**16.** К экономически неактивному населению относятся:

*А. Безработные, которые желают трудоустроиться*

*Б. Пенсионеры, которые не работают*

*В. Пенсионеры, которые работают*

*Г. Студенты*

*Д. Безработные, которые желают трудоустроиться*

*Е. Инвалиды*

*Ж. Студенты, которые работают в свободное время*

**17.** К горным породам осадочного происхождения относятся:

*А. Железная руда*

*Б. Мел*

*В. Мрамор*

*Г. Бурый уголь*

*Д. Известняк*

*Е. Алмаз*

*Ж. Медь*



**ТЕСТОВЫЕ ЗАДАНИЯ С МНОЖЕСТВЕННЫМ ОТВЕТОМ**

**18.** Назовите заливы Азовского моря:

- А. Каламитский*
- Б. Джарылгачский*
- В. Феодосийский*
- Г. Каркинитский*
- Д. Бердянский*
- Е. Обиточный*
- Ж. Таганрогский*

**19.** Из перечня выберите заповедные территории Донецкого края:

- А. Стрелецкая степь*
- Б. Хомутовская степь*
- В. Казантипский*
- Г. Каменные могилы*
- Д. Меловая флора*
- Е. Михайловская целина*
- Ж. Мыс Мартьян*



**20.** К лесохимической отрасли относится производство:

- А. Лаков*
- Б. Линолеума*
- В. Искусственного волокна*
- Г. Фанеры*
- Д. Целлюлозы*
- Е. Бумаги*
- Ж. Мебели*

**21.** Административно-территориальными единицами Донетчины являются:

- А. Область*
- Б. Район*
- В. Автономная Республика*
- Г. Поселки*
- Д. Край*
- Е. Город*
- Ж. Провинция*

**22.** Выберите формы рельефа Донецкого края:

- А. Тарханкутская возвышенность*
- Б. Приднепровская низменность*
- В. Донецкий кряж*
- Г. Приазовская возвышенность*
- Д. Валдайская возвышенность*
- Е. Приазовская низменность*
- Ж. Причерноморская низменность*



23. На территории Донецкого края обитают представители природных зон:
- А. Лесной*
  - Б. Тундры*
  - В. Степной*
  - Г. Саванн*
  - Д. Лесостепной*
  - Е. Тайги*
  - Ж. Пустынной*

24. К отрасли образования и науки социальной сферы относятся:
- А. Дошкольные учреждения*
  - Б. Музыкальные школы*
  - В. Художественные школы*
  - Г. Высшие учебные заведения*
  - Д. Школы искусств*
  - Е. Внешкольные учреждения (дома творчества, спортивные школы)*
  - Ж. Библиотеки*

25. Выберите города, которые относятся к Донецкому краю:

- А. Краснодон*
- Б. Тельманово*
- В. Синельниково*
- Г. Володарское*
- Д. Купянск*
- Е. Мангуш*
- Ж. Лисичанск*



26. Рельеф Донбасса характеризуется волнистой поверхностью, среди которой выделяются одинокие «могилы». Выберите те из них, которые находятся в пределах нашей области:

- А. Могила Гончариха*
- Б. Могила Острая*
- В. Могила Мечетная*
- Г. Саур-Могила*
- Д. Бельмак-Могила*
- Е. Картушанские Могилы*
- Ж. Токмак-Могила*

27. Выберите из перечня месторождения каменной соли:

- А. Торезское*
- Б. Артемовское*
- В. Ясиноватское*
- Г. Славянское*
- Д. Тельмановское*



**ТЕСТОВЫЕ ЗАДАНИЯ С МНОЖЕСТВЕННЫМ ОТВЕТОМ**

*Е. Новокарфагенское  
Ж. Докучаевское*

- 28.** Укажите отрицательные черты политико-географического положения Донецкого края:
- А. Расположен на острие противоречия «Запад-Восток»*
  - Б. Соседство с Россией дает экономическую помощь в урегулировании конфликта*
  - В. Находится в состоянии политического кризиса*
  - Г. Общие с окружающими административными единицами этнические земли*
  - Д. Имеет взаимные к Украине экономические, политические и территориальные претензии*
  - Е. Добрососедские отношения со странами Таможенного Союза*
  - Ж. Предпринимаются попытки выхода из политического кризиса*

- 29.** Из перечня топонимов выберите те, в которых отражена поэтическая душа нашего народа:
- А. Шахтерск*
  - Б. Благодатное*
  - В. Опытное*
  - Г. Прелестное*
  - Д. Металлист*
  - Е. Еленовка*
  - Ж. Свободное*



- 30.** Какие параметры необходимы для определения падения реки?
- А. Высота устья*
  - Б. Скорость течения*
  - В. Высота истока*
  - Г. Расход воды в реке*
  - Д. Длина реки*
  - Е. Глубина реки*
  - Ж. Ширина реки*
- 31.** Укажите известных краеведов-уроженцев нашего края:
- А. Графф Виктор Егорович*
  - Б. Пассек Вадим Васильевич*
  - В. Вознесенский Николай Алексеевич*
  - Г. Кондратюк Евгений Николаевич*
  - Д. Янко Николай Тимофеевич*
  - Е. Рудницкий Степан Львович*
  - Ж. Швец Николай Александрович*



32. Укажите три главных фактора, которые оказали влияние на снижение численности населения:
- А. Религиозный*
  - Б. Культурный*
  - В. Экономический*
  - Г. Исторический*
  - Д. Экологический*
  - Е. Географический*
  - Ж. Социальный*
33. Укажите основные центры черной металлургии Донецкого края:
- А. Доброполье*
  - Б. Амвросиевка*
  - В. Мариуполь*
  - Г. Енакиево*
  - Д. Красный Лиман*
  - Е. Харцызск*
  - Ж. Александровка*
34. Современные источники географической информации:
- А. Географические информационные системы (ГИС)*
  - Б. Художественная литература*
  - В. Энциклопедия*
  - Г. Справочники*
  - Д. Программа Google Earth*
  - Е. Научно-популярные журналы*
  - Ж. Google-карты*



35. Выберите реки, которые относятся к бассейну Азовского моря:
- А. Волчья*
  - Б. Северский Донец*
  - В. Самара*
  - Г. Грузской Еланчик*
  - Д. Соленая*
  - Е. Кальмиус*
  - Ж. Мокрые Ялы*

36. Выгодность физико-географического положения Донецкого края определяется следующими факторами:
- А. Удалён от некоторых торговых партнеров*
  - Б. Наличие богатых природных ресурсов*
  - В. Выход к Азовскому морю*
  - Г. Положение в умеренных широтах, в степной зоне*
  - Д. Образование области в 1938 году*



## ТЕСТОВЫЕ ЗАДАНИЯ С МНОЖЕСТВЕННЫМ ОТВЕТОМ

*Е. Деление на административные районы*  
*Ж. Общая длина границ*

**37.** К деревообрабатывающей отрасли относится производство:

- А. Мебели*
- Б. Лаков*
- В. Фанеры*
- Г. Бумаги*
- Д. Целлюлозы*
- Е. Столярных изделий*
- Ж. Пластмасс*

**38.** Укажите города, которые являются районными центрами:

- А. Авдеевка*
- Б. Дружковка*
- В. Марьинка*
- Г. Горловка*
- Д. Ясиноватая*
- Е. Ждановка*
- Ж. Старобешево*



**39.** Какие водохранилища находятся на территории Донецкого края?

- А. Клебан-Быкское*
- Б. Каховское*
- В. Днепровское*
- Г. Кальмиусское*
- Д. Печенежское*
- Е. Кураховское*
- Ж. Саратовское*

**40.** Выберите представителей флоры и фауны степной зоны:

- А. Суслик*
- Б. благородный олень*
- В. Мышь-полевка*
- Г. Рысь*
- Д. Лиственница*
- Е. Типчак*
- Ж. Брусника*

**41.** По продолжительности миграция бывает:

- А. Внешняя*
- Б. Иммиграция*
- В. Сезонная*



- Г. Эмиграция*
- Д. Маятниковая*
- Е. Внутренняя*
- Ж. Постоянная*

42. Из перечня топонимов выберите те, в которых отражены природные богатства родного края:

- А. Енакиево*
- Б. Соледар*
- В. Торез*
- Г. Углегорск*
- Д. Горловка*
- Е. Ясиноватая*
- Ж. Гранитное*

43. Какие формы рельефа относятся к антропогенным?

- А. Пещеры*
- Б. Песчаные косы*
- В. Терриконы*
- Г. Горы*
- Д. Карьеры*
- Е. Каналы*
- Ж. Равнины*



44. Назовите тектонические структуры Донецкого края:

- А. Донецкое складчатое сооружение*
- Б. Воронежский кристаллический массив*
- В. Скифская плита*
- Г. Днепровско-Донецкая впадина*
- Д. Крымская складчатая система*
- Е. Украинский щит*
- Ж. Причерноморская впадина*

45. Выберите товары, произведенные отраслями группы «А» (т.е. отраслями, выпускающими средства производства):

- А. Шахтное оборудование*
- Б. Тетради*
- В. Комбайны*
- Г. Обувь*
- Д. Хлеб*
- Е. Турбина*
- Ж. Одежда*



## ТЕСТОВЫЕ ЗАДАНИЯ С МНОЖЕСТВЕННЫМ ОТВЕТОМ

46. К сфере услуг (непроизводственной сфере) относятся:
- А. Транспорт*
  - Б. Искусство*
  - В. Торговля*
  - Г. Связь*
  - Д. Образование*
  - Е. Общественное питание*
  - Ж. Бытовое обслуживание*
47. Выберите населенные пункты-курорты на берегу Азовского моря в пределах Донецкого края:
- А. Бердянск*
  - Б. Седово*
  - В. Геническ*
  - Г. Новоазовск*
  - Д. Приморск*
  - Е. Мелекино*
  - Ж. Керчь*
48. Что характеризует водные ресурсы Донецкого края?
- А. Реки области, преимущественно, горные*
  - Б. Реки Донецкого края, главным образом, средние и малые*
  - В. Большинство рек края относятся к внутреннему стоку*
  - Г. Основную часть запасов поверхностных вод области составляют озера*
  - Д. Средний коэффициент густоты речной сети по Донецкому краю составляет 0,5 км/км<sup>2</sup>*
  - Е. Питание рек края – ледниковое*
  - Ж. Питание рек Донецкого края смешанное – снеговое, дождевое, подземное*
49. Выберите неправильные утверждения:
- А. Легкая промышленность является гидроёмкой*
  - Б. Объемы производства легкой промышленности являются недостаточными для обеспечения потребностей населения нашей области*
  - В. В легкой промышленности задействованы, в основном, мужчины*
  - Г. В размещении предприятия легкой промышленности ориентируются на потребителя*
  - Д. Предприятия легкой промышленности в размещении ориентируются на наличие сырья*
  - Е. Легкая промышленность является трудоемкой*
  - Ж. В легкой промышленности задействованы, в основном, женщины*





50. Укажите центры цветной металлургии в Донецкого края:

*А. Комсомольское*

*Б. Енакиево*

*В. Красноармейск*

*Г. Константиновка*

*Д. Артемовск*

*Е. Торез*

*Ж. Шахтерск*

51. Какие единицы физико-географического районирования являются частью Степной природной зоны?

*А. Лесная природная зона*

*Б. Северостепная природная подзона*

*В. Лесостепная природная зона*

*Г. Среднестепная природная подзона*

*Д. Равнинная природная страна*

*Е. Южнестепная природная подзона*

*Ж. Горная природная страна*



52. Укажите искусственные водоемы Донецкого края:

*А. Канал Северский Донец-Донбасс*

*Б. Канал Северокрымский*

*В. Ханженковское водохранилище*

*Г. Краснооскольское водохранилище*

*Д. Кальмиусское водохранилище*

*Е. Каховский канал*

*Ж. Киевское водохранилище*

53. Укажите, что из приведенного перечня характерно для автомобильного транспорта:

*А. Самый дешевый вид транспорта*

*Б. Маневренность, мобильность*

*В. Самый быстрый вид транспорта*

*Г. Эффективен при перевозках грузов и пассажиров на короткие расстояния*


*Д. Эффективен при перевозках грузов и пассажиров на дальние расстояния*

*Е. Загрязняет окружающую среду*

*Ж. Самый дорогой вид транспорта*



**ТЕСТОВЫЕ ЗАДАНИЯ С МНОЖЕСТВЕННЫМ ОТВЕТОМ**

54. Основная причина переселения – стремление человека жить лучше. Какие причины являются исключением и приводят к вынужденным переселениям?
- А. Экономические*
  - Б. Природные катастрофы*
  - В. Религиозные*
  - Г. Военные действия*
  - Д. Спрос на определенных специалистов*
  - Е. Депортация*
  - Ж. Создание семьи*
55. Какие ландшафтные парки расположены не на территории Донецкого края?
- А. «Донецкий кряж»*
  - Б. «Меотида»*
  - В. «Беловодский»*
  - Г. «Славянский курорт»*
  - Д. «Клебан-Бык»*
  - Е. «Ольхова балка»*
  - Ж. «Панай»*
- 
56. К числу традиционных методов географических исследований относятся:
- А. Метод описания*
  - Б. Моделирования*
  - В. Картографический*
  - Г. Геоинформационный*
  - Д. Аэрокосмический*
  - Е. Сравнительно-географический*
  - Ж. Прогнозирования*
57. Основными элементами территориальной структуры промышленности являются:
- А. Районный центр*
  - Б. Промышленный пункт*
  - В. Областной центр*
  - Г. Промышленный центр*
  - Д. Железнодорожный узел*
  - Е. Промышленный узел*
  - Ж. Транспортный узел*



58. Какие предприятия химической промышленности не относятся к предприятиям Донецкого края?
- А. Алчевский коксохимический завод*
  - Б. Горловский «Стирол»*
  - В. Днепродзержинский «ДнепрАЗОТ»*
  - Г. Славянский «Химпром»*
  - Д. Полтавский «Полимер»*
  - Е. Краматорский лакокрасочный завод*
  - Ж. Донецкий завод резинотехнических изделий*

59. Что характерно для климата Донецкого края?
- А. Среднегодовое количество осадков на территории области – 700-1000 мм в год*
  - Б. Равнинный рельеф области свободно пропускает воздушные массы*
  - В. На побережье моря действуют муссоны*
  - Г. Зимой Азовское море способствует повышению температуры над побережьем*
  - Д. Средние температуры января достигают ( $-20^{\circ}\text{C}$ ), июля – ( $+15^{\circ}\text{C}$ ).*
  - Е. В области – континентальный тип климата*
  - Ж. Для области характерно недостаточное увлажнение, коэффициент увлажнения меньше единицы – 0,6-0,5*

60. Из перечня географических названий выберите гидронимы:

- А. Курган Саур-Могила*
- Б. Населенный пункт Мирное*
- В. Река Кальчик*
- Г. Река Грузской Еланчик*
- Д. Река Каратыш*
- Е. Город Селидово*
- Ж. Курган Могила Косач*



61. Выберите ошибочные утверждения:

- А. Этнос в переводе с греческого означает «народ»*
- Б. Города различаются своим назначением: существуют города – промышленные центры, города – центры отдыха и туризма, города – религиозные центры, города – научные центры*
- В. Самый крупный город мира с пригородами – Токио*
- Г. В отдельных странах мира существуют национальные религии: в Китае – синтоизм, в Индии – индуизм, в Японии – конфуцианство*
- Д. Наиболее широко распространена мировая религия – буддизм*
- Е. Городская агломерация – компактное расположение городских поселений, объединенных между собой хозяйственными, трудовыми, культурно-бытовыми связями*



## ТЕСТОВЫЕ ЗАДАНИЯ С МНОЖЕСТВЕННЫМ ОТВЕТОМ

*Ж. Официально признанными международными языками считают пять языков: английский, русский, французский, испанский и итальянский*

**62.** Выберите товары, произведенные отраслями группы «Б» (т.е. отраслями, выпускающими средства потребления):

- А. Комбайн*
- Б. Трикотажные изделия*
- В. Трактор*
- Г. Трубы*
- Д. меховая шуба*
- Е. Турбины*
- Ж. Парфюмерия*

**63.** Из перечня выберите методы, которые не относятся к методам краеведческого исследования:

- А. Картографический*
- Б. Архивный*
- В. Радиохимический*
- Г. Литературный*
- Д. Аксиоматический*
- Е. Метод детерминизма*
- Ж. Статистический*



**64.** Укажите неверные утверждения:

- А. Почва – рыхлый плодородный слой земли.*
- Б. Большую часть Донецкого края занимают дерново-подзолистые почвы.*
- В. Главное свойство почвы – плодородие.*
- Г. Вдоль побережья Азовского моря наблюдается большое разнообразие почв.*
- Д. Плодородие почвы определяется органическим веществом – перегноем.*
- Е. На севере области встречаются солонцы и солончаки.*
- Ж. Наиболее плодородная почва – чернозем.*

**65.** Выберите административные районы, которые не относятся к Донецкому краю:

- А. Волновахский*
- Б. Добропольский*
- В. Константиновский*
- Г. Лозовской*
- Д. Васильковский*
- Е. Токмакский*
- Ж. Тельмановский*



66. Выберите утверждения, которые характерны для Донецкого края:
- А. В настоящее время естественный прирост отрицательный*
  - Б. Наблюдается «демографическая весна»*
  - В. Сальдо миграции отрицательное*
  - Г. Наблюдается «демографический взрыв»*
  - Д. Первый тип воспроизводства населения (низкий уровень рождаемости)*
  - Е. Активно проводится демографическая политика, направленная на увеличение рождаемости населения*
  - Ж. В настоящее время естественный прирост положительный*
67. Площадь Донецкого края приблизительно равна территориям государств:
- А. Македония*
  - Б. Ангола*
  - В. Албания*
  - Г. Йемен*
  - Д. Руанда*
  - Е. Боливия*
  - Ж. Таиланд*



68. К центрам угледобычи не относятся:


- А. Славянск*
- Б. Краматорск*
- В. Донецк*
- Г. Макеевка*
- Д. Горловка*
- Е. Шахтерск*
- Ж. Мариуполь*

69. Какие утверждения характерны для Донецкого края?

- А. На каждую 1000 женщин приходится 10100 мужчин*
- Б. В нашем крае плотность населения составляет 185 чел./км<sup>2</sup> (один из самых густонаселенных регионов)*
- В. Плотность населения – 77 чел./км<sup>2</sup>*
- Г. Увеличивается количество людей преклонного возраста – «старение нации»*
- Д. Продолжительность жизни мужчин больше, поэтому в старшей возрастной группе преобладает количество мужчин*
- Е. Соотношение мужчин и женщин в регионе составляет соответственно (53:47)%*
- Ж. Мальчиков рождается больше, но в старшей возрастной группе мужчин вдвое меньше, чем женщин*



## ТЕСТОВЫЕ ЗАДАНИЯ С МНОЖЕСТВЕННЫМ ОТВЕТОМ

70. Выберите названия административного центра нашего края в разные годы.
- А. Ворошиловград*
  - Б. Юзовка*
  - В. Бахмут*
  - Г. Кальмиус*
  - Д. Сталино*
  - Е. Рутченково*
  - Ж. Донецк*
71. Из перечисленных городов назовите три наиболее загрязненных:
- А. Енакиев*
  - Б. Красный Лиман*
  - В. Донецк*
  - Г. Славянск*
  - Д. Святогорск*
  - Е. Мариуполь*
  - Ж. Новоазовск*
- 
72. Какие стихийные явления могут возникать только в горах?
- А. Сели*
  - Б. Суховеи*
  - В. Снежные лавины*
  - Г. Извержения вулканов*
  - Д. Метели*
  - Е. Ливни*
  - Ж. Град*
73. Укажите три города, которые выполняют функцию транспортного узла:
- А. Святогорск*
  - Б. Мостино*
  - В. Красный Лиман*
  - Г. Торез*
  - Д. Ясиноватая*
  - Е. Снежное*
  - Ж. Дебальцево*
74. Укажите неверные утверждения:
- А. В Донецком крае из отраслей сельского хозяйства преобладает животноводство*
  - Б. Сельское хозяйство – важнейшая отрасль непродуцированной сферы*
  - В. Основой растениеводства Донецкого края служит выращивание технических культур*



- Г. В структуре сельского хозяйства нашей области преобладает растениеводство  
 Д. Основа растениеводства нашего края – зерновое хозяйство  
 Е. Главной культурой из технических культур, выращиваемых в Донецком крае, является подсолнечник  
 Ж. В Донецком крае выращивают озимые и яровые культуры

75. Найдите ошибки, сделанные при переводе масштабов:

- А. М 1:1 500 000 (в 1 см – 15 км)  
 Б. М 1:250 000 (в 1 см – 25 км)  
 В. М 1:50 000 (в 1 см – 500 м)  
 Г. М 1: 7 500 (в 1 см – 75 км)  
 Д. В 1 см – 200 м (М 1: 20 000)  
 Е. В 1 см – 10 км (М 1: 100 000)  
 Ж. В 1 см – 35 м (М 1: 3500)



76. Выберите предложения, в которых нужно вставить пропущенное слово «угол»:


- А. Азимут – это ..., между направлением на север и направлением на искомый объект  
 Б. ... – наиболее точная модель Земли  
 В. Топографические карты изображают небольшой ..., выполненный в масштабе 1:200 000 и крупнее  
 Г. ... образованный между направлениями истинного и магнитного меридиана, называется магнитным склонением  
 Д. ..., который образован между северным направлением и вертикальной сетки и направлением на объект, называется дирекционным  
 Е. Каждый ... соединяется со всеми остальными в двух точках: на Северном и Южном полюсах  
 Ж. ... – прибор, который используется для ориентирования на местности

77. Какие формы рельефа появляются в результате карстовых процессов?

- А. Дельты рек  
 Б. Песчаные косы  
 В. Гроты  
 Г. Выходы гранитов  
 Д. Воронки  
 Е. Овраги  
 Ж. Пещеры



**ТЕСТОВЫЕ ЗАДАНИЯ С МНОЖЕСТВЕННЫМ ОТВЕТОМ**

- 78.** Назовите положительные черты экономико-географического положения Донецкого края:
- А. Имеет выход к Азовскому морю*
  - Б. Отдаленность от некоторых важных торговых партнеров*
  - В. Находится на пересечении крупных транспортных магистралей*
  - Г. Зависит от поставок некоторых видов сырья*
  - Д. Край имеет топливно-сырьевую базу*
  - Е. Нарушены экономические связи с соседними областями Украины*
  - Ж. Политический кризис отражается на развитии экономики региона*
- 79.** Укажите области, с которыми граничит Донецкий край:
- А. Белгородская область (Россия)*
  - Б. Харьковская область*
  - В. Запорожская область*
  - Г. Полтавская область*
  - Д. Кировоградская область*
  - Е. Днепропетровская область*
  - Ж. Сумская область*
- 
- 80.** Отрасли пищевой промышленности, которые ориентируются на сырье:
- А. Макаaronная*
  - Б. Рыбная*
  - В. Хлебопекарская*
  - Г. Масложировая*
  - Д. Крупяная*
  - Е. Кондитерская*
  - Ж. Все ответы верны*
- 81.** Какие неблагоприятные физико-географические процессы и погодные явления можно наблюдать в Донецком крае?
- А. Гололедицы*
  - Б. Землетрясения*
  - В. Пыльные бури*
  - Г. Сели*
  - Д. Весенние заморозки*
  - Е. Заболачивание*
  - Ж. Снежные лавины*
- 82.** Каковы особенности рек Донецкого края?
- А. Равнинные*
  - Б. Горные*
  - В. Имеют смешанное питание*
  - Г. Имеют дождевое питание*



- Д. Преимущественно большие*
- Е. Имеют небольшой речной сток*
- Ж. Имеют большой речной сток*

**83.** Каких электростанций нет в Донецком крае?

- А. Углегорская ТЭС*
- Б. Запорожская АЭС*
- В. Славянская ТЭС*
- Г. Николаевская СЭС*
- Д. Кураховская ТЭС*
- Е. Каневская ГЭС*
- Ж. Старобешевская ТЭС*

**84.** Основные центры машиностроения в Донецком крае:

- А. Волноваха*
- Б. Горловка*
- В. Краматорск*
- Г. Тельманово*
- Д. Мариуполь*
- Е. Новоазовск*
- Ж. Северск*



**85.** К топливным полезным ископаемым относятся:

- А. уголь*
- Б. мел*
- В. руда*
- Г. ртуть*
- Д. торф*
- Е. газ*
- Ж. сера*





5. Определите соответствие между видами солнечной радиации и определениями:
- |                |  |
|----------------|--|
| 1) Рассеянная  | А. Часть солнечной радиации, расходуемая на нагрев земли |
| 2) Отраженная  | Б. Вся солнечная радиация, достигающая поверхности       |
| 3) Поглощенная | В. Рассеивается облаками, частицами пыли                 |
| 4) Прямая      | Г. Отражается поверхностью обратно в атмосферу           |
|                | Д. Достигает поверхности в неизменном виде               |
6. Определите соответствие между видами транспорта и их характеристиками:
- |                    |  |
|--------------------|--|
| 1) Железнодорожный | А. Самый молодой и быстрый вид транспорта  |
| 2) Автомобильный   | Б. Осуществляет экспортно-импортные и каботажные перевозки   |
| 3) Морской         | В. Транспортирует нефть, нефтепродукты и природный газ   |
| 4) Авиационный     | Г. Перевозит грузы и пассажиров на короткие и средние расстояния                                     |
|                    | Д. Играет важную роль во внутригосударственных и межгосударственных сообщениях на дальние расстояния |
7. Установите соответствие между понятиями и их определениями:
- |                |   |
|----------------|---|
| 1) Масштаб     | А. Линия, соединяющая точки с одинаковой абсолютной высотой           |
| 2) Горизонталь | Б. Угол между направлением на север и на какой-либо предмет           |
| 3) Бергштрих   | В. Короткая черточка, которая свободным концом указывает, где склон   |
| 4) Азимут      | Г. Видимая нами на открытой местности часть земной поверхности        |
|                | Д. Отношение длины отрезка на карте к его длине на земной поверхности |
8. Определите соответствие между притоками и реками Донецкого края, в которые они впадают:
- |                   |                    |
|-------------------|--------------------|
| 1) Крынка         | А. Днепр           |
| 2) Казенный Торец | Б. Самара          |
| 3) Волчья         | В. Кальмиус        |
| 4) Самара         | Г. Миус            |
|                   | Д. Северский Донец |





## ТЕСТЫ НА СООТВЕТСТВИЕ

9. Определите соответствие между видами транспорта и их недостатками:

- 1) Железнодорожный
- 2) Автомобильный
- 3) Авиационный
- 4) Речной

- А. Невысокая скорость, ограничена маневренность
- Б. Низкая скорость, зависит от времени года
- В. Не все виды грузов может перевозить
- Г. Высокая себестоимость, загрязнение атмосферы
- Д. Высокая себестоимость, зависит от погоды



10. Определите соответствие между притоками и реками Донецкого края, в которые они впадают:

- |                     |                    |
|---------------------|--------------------|
| 1) Мокрая Волноваха | А. Казенный Торец  |
| 2) Кривой Торец     | Б. Дон             |
| 3) Бахмут           | В. Кальмиус        |
| 4) Северский Донец  | Г. Северский Донец |
|                     | Д. Волчья          |

11. Установите соответствие между отраслями социальной сферы и учреждениями, которые к ним относятся:

- |                            |                                      |
|----------------------------|--------------------------------------|
| 1) Образование             | А. Колледж                           |
| 2) Культура                | Б. Библиотека                        |
| 3) Рекреационное хозяйство | В. Научно-исследовательский институт |
| 4) Общественное питание    | Г. Ресторан                          |
|                            | Д. Санаторий                         |

12. Установите соответствие между характеристиками морей и их названиями:

- |                         |               |
|-------------------------|---------------|
| 1) Самое глубокое море  | А. Росса      |
| 2) Самое маленькое море | Б. Красное    |
| 3) Самое холодное море  | В. Азовское   |
| 4) Самое мелкое море    | Г. Аравийское |
|                         | Д. Мраморное  |

13. Установите соответствие между названиями карт и группами, к которым они принадлежат:

- |  |                       |
|--|-----------------------|
| 1) Топографическая карта М-23-В          | А. Автодорог          |
| 2) Почвы Донецкого края                  | Б. Туристические      |
| 3) Керченский пролив (глубины, фарватер) | В. Тематические       |
| 4) Тропами Крымских гор                  | Г. Общегеографические |
|  | Д. Навигационные      |



14. Установите соответствие между городами Донецкого края и численностью населения в них

- |              |                  |
|--------------|------------------|
| 1) Донецк    | А. 372 тыс. чел. |
| 2) Мариуполь | Б. 993 тыс. чел. |
| 3) Макеевка  | В. 479 тыс. чел. |
| 4) Славянск  | Г. 81 тыс. чел.  |
|              | Д. 121 тыс. чел. |



15. Установите соответствие между сторонами горизонта и их азимутами:

- |           |         |
|-----------|---------|
| 1) Север  | А. 0°   |
| 2) Юг     | Б. 45°  |
| 3) Восток | В. 90°  |
| 4) Запад  | Г. 180° |
|           | Д. 270° |

16. Установите соответствие между точками на территории Донецкого края и их характеристиками:

- |                       |                            |
|-----------------------|----------------------------|
| 1) Белосарайская коса | А. Крайняя южная точка     |
| 2) Село Пески         | Б. Крайняя северная точка  |
| 3) Село Верхний Кут   | В. Крайняя западная точка  |
| 4) Село Шевченко      | Г. Крайняя восточная точка |
|                       | Д. Географический центр    |

17. Установите соответствие между функциями городов и населенными пунктами Донецкого края:

- |                              |               |
|------------------------------|---------------|
| 1) Железнодорожный узел      | А. Горловка   |
| 2) Курорт                    | Б. Волноваха  |
| 3) Промышленный центр        | В. Славянск   |
| 4) Многофункциональный город | Г. Ясиноватая |
|                              | Д. Донецк     |

18. Определите соответствие между картографическими проекциями и их признаками:

- |                  |  |
|------------------|--|
| 1) Равноугольные | А. Не искажают площади                                 |
| 2) Равновеликие  | Б. Не искажают углы                                    |
| 3) Азимутальные  | В. Имеют все виды искажений                            |
| 4) Произвольные  | Г. Проектирование осуществляется на поверхность конуса |
|                  | Д. Проектирование осуществляется на плоскость          |



### ТЕСТЫ НА СООТВЕТСТВИЕ

19. Установите соответствие между названиями городов Донецкого края и отраслями промышленности, которые в них преобладают:
- |                  |   |
|------------------|---|
| 1) Мариуполь     | А. Машиностроение                         |
| 2) Краматорск    | Б. Топливо-энергетическая промышленность  |
| 3) Амвросиевка   | В. Промышленность строительных материалов |
| 4) Красноармейск | Г. Черная металлургия                     |
|                  | Д. Пищевая промышленность                 |
20. Установите соответствие между датами и событиями, касающимися истории образования Донецкого края:
- |            |  |
|------------|--|
| 1) 1676 г. | А. Была образована Донецкая область                                |
| 2) 1932 г. | Б. Возникает первый город – Соляное (Славянск)                     |
| 3) 1919 г. | В. Город Сталино переименован в Донецк                             |
| 4) 1869 г. | Г. Создается Донецкая губерния                                     |
|            | Д. Предприниматель Джон Хьюз (Юз) строит металлургический комбинат |
21. Установите соответствие между видами миграций и их определениями:
- |                        |   |
|------------------------|---|
| 1) Реэмиграция         | А. Движение населения между регионами внутри страны         |
| 2) Эмиграция           | Б. Проезд граждан через территорию страны                   |
| 3) Иммиграция          | В. Выезд граждан за пределы страны на ПМЖ                   |
| 4) Внутренняя миграция | Г. Возвращение граждан в страну после проживания за рубежом |
|                        | Д. Въезд граждан других стран в страну на ПМЖ               |
22. Определите соответствие между полезными ископаемыми Донецкого края и их месторождениями:
- |                     |                           |
|---------------------|---------------------------|
| 1) Железные руды    | А. Артемовское            |
| 2) Каменная соль    | Б. Новодмитровское        |
| 3) Ртутные руды     | В. Калиново-Шевченковское |
| 4) Алюминиевые руды | Г. Мариупольское          |
|                     | Д. Никитовское            |





24. Установите соответствие между современными названиями городов Донецкого края и их названиями в прошлом:

- |              |               |
|--------------|---------------|
| 1) Донецк    | А. Дмитриевск |
| 2) Мариуполь | Б. Бахмут     |
| 3) Макеевка  | В. Тор        |
| 4) Славянск  | Г. Юзовка     |
|              | Д. Жданов     |



25. Установите соответствие между продукцией основной химии и центрами Донецкого края, где ее производят:

- |                       |                   |
|-----------------------|-------------------|
| 1) Азотные удобрения  | А. Славянск       |
| 2) Калийные удобрения | Б. Макеевка       |
| 3) Серная кислота     | В. Мариуполь      |
| 4) Сода               | Г. Константиновка |
|                       | Д. Горловка       |

26. Установите соответствие между категориями природоохранных объектов и их названиями:

- |                                |                       |
|--------------------------------|-----------------------|
| 1) Природный заповедник        | А. «Каменные могилы»  |
| 2) Национальный природный парк | Б. Нескучненский лес  |
| 3) Ботанический сад            | В. Белосарайская коса |
| 4) Заказник                    | Г. Донецкий           |
|                                | Д. «Святые горы»      |

27. Установите соответствие между продукцией химической промышленности и центрами Донецкого края, где ее производят:

- |               |              |
|---------------|--------------|
| 1) Пластмассы | А. Марьинка  |
| 2) Лекарства  | Б. Макеевка  |
| 3) Шины       | В. Донецк    |
| 4) Кокс       | Г. Мариуполь |
|               | Д. Горловка  |

28. Установите соответствие между понятиями и их определениями:

- |                |   |
|----------------|---|
| 1) Урбанизация | А. Разница между числом родившихся и умерших    |
| 2) Агломерация | Б. Слияние городов в единое городское поселение |
| 3) Депопуляция | В. Наука, изучающая население                   |
| 4) Демография  | Г. Увеличение доли городского населения         |
|                | Д. Сокращение численности населения             |



### ТЕСТЫ НА СООТВЕТСТВИЕ

29. Укажите соответствие между видами безработицы и их проявлениями:
- |                    |  |
|--------------------|--|
| 1) Скрытая         | А. Во время экономического кризиса закрылись заводы      |
| 2) Сезонная        | Б. Комбайнер не работает в зимний период                 |
| 3) Технологическая | В. Человек работает только 3 дня в неделю по 8 часов     |
| 4) Циклическая     | Г. Вместо людей в цехе стали работать роботы             |
|                    | Д. Человек переехал в другой город и еще не нашел работу |
30. Определите соответствие между единицами физико-географического районирования и названиями Донецкого края, к ним относящимися:
- |                                 |                                 |
|---------------------------------|---------------------------------|
| 1) Географический пояс          | А. Восточно-Европейская равнина |
| 2) Природная зона               | Б. Северная степная             |
| 3) Физико-географическая страна | В. Степь                        |
| 4) Провинция                    | Г. Донецкая                     |
|                                 | Д. Умеренный                    |
31. Установите соответствия между понятиями и их определениями:
- |                           |  |
|---------------------------|--|
| 1) Демографический взрыв  | А Стремительное увеличение населения     |
| 2) Демографический кризис | Б Соотношение числа родившихся и умерших |
| 3) Естественный прирост   | В Замедление темпов прироста населения   |
| 4) Мегалополис            | Г Увеличение доли пожилых людей          |
|                           | Д Зона сплошной урбанизации              |
32. Установите соответствие между именами ученых и их вкладом в изучение территории Донецкого края:
- |                     |  |
|---------------------|--|
| 1) Е.П. Ковалевский | А. Написал книгу «Будущая сила на берегах Донца»     |
| 2) В.В. Докучаев    | Б. Занимался разведением леса в засушливых степях    |
| 3) Д.И. Менделеев   | В. Ввел термин «Донбасс», создал геологическую карту |
| 4) П.И. Кеппен      | Г. Написал книги о водных богатствах края            |
|                     | Д. Исследовал почвы, создал науку «Почвоведение»     |





- 33.** Установите соответствие между продукцией промышленности строительных материалов и центрами Донецкого края, где ее производят:
- |                               |                   |
|-------------------------------|-------------------|
| 1) Цемент                     | А. Константиновка |
| 2) Стекло                     | Б. Амвросиевка    |
| 3) Железобетонные конструкции | В. Донецк         |
| 4) Строительная керамика      | Г. Макеевка       |
|                               | Д. Славянск       |
- 34.** Установите соответствие между именами исследователей и их вкладом в изучение Донбасса:
- |                      |  |
|----------------------|--|
| 1) В.Е. Графф        | А. В 1721 году открыл каменный уголь в Донбассе    |
| 2) Григорий Капустин | Б. Занимался разведением леса в засушливых степях  |
| 3) Л.И. Лутугин      | В. Изучал почвы                                    |
| 4) Г.Н. Высоцкий     | Г. Изучал водные богатства края                    |
|                      | Д. Изучал геологию Донбасса, подсчитал запасы угля |
- 35.** Установите соответствие между группами отраслей хозяйства и отраслями, которые к ним относятся:
- |                             |                        |
|-----------------------------|------------------------|
| 1) Тяжелая промышленность   | А. Швейная             |
| 2) Пищевая промышленность   | Б. Растениеводство     |
| 3) Легкая промышленность    | В. Кондитерская        |
| 4) Непроизводственная сфера | Г. Здравоохранение     |
|                             | Д. Цветная металлургия |



- 36.** Установите соответствие между типами рельефа и условиями их образования:
- |                   |  |
|-------------------|--|
| 1) Техногенные    | А. В результате работы ветра                           |
| 2) Гравитационные | Б. Образованы текучими водами                          |
| 3) Эоловые        | В. В результате разрушения горных пород водой и ветром |
| 4) Денудационные  | Г. В результате хозяйственной деятельности человека    |
|                   | Д. Под действие силы тяжести                           |
- 37.** Установите соответствие между продукцией пищевой промышленности и городами Донецкого края, где ее производят:
- |             |                   |
|-------------|-------------------|
| 1) Мука     | А. Константиновка |
| 2) Макароны | Б. Донецк         |
| 3) Конфеты  | В. Еленовка       |
| 4) Майонез  | Г. Макеевка       |
|             | Д. Мариуполь      |



### ТЕСТЫ НА СООТВЕТСТВИЕ

- 38.** Определите соответствие между тектоническими структурами и формами рельефа Донецкого края:
- |                                    |                                |
|------------------------------------|--------------------------------|
| 1) Украинский щит                  | А. Приазовская низменность     |
| 2) Донецкое складчатое сооружение  | Б. Донское Белогорье           |
| 3) Причерноморско-Азовская впадина | В. Приазовская возвышенность   |
| 4) Днепровско-Донецкая впадина     | Г. Донецкий кряж               |
|                                    | Д. Донецкая террасовая равнина |
- 39.** Установите соответствие между типами металлургических предприятий и продукцией, которую они производят:
- |                                  |                              |
|----------------------------------|------------------------------|
| 1) Завод полного цикла           | А. Болты, гайки              |
| 2) Труболитейный завод           | Б. Чугун, сталь, прокат      |
| 3) Горно-обогатительный комбинат | В. Чугунные и стальные трубы |
| 4) Метизный завод                | Г. Сталь, ферросплавы        |
|                                  | Д. Агломерат                 |
- 40.** Установите соответствие между областями, граничащими с Донецким краем, и сторонами света, где проходят границы:
- |                |                  |
|----------------|------------------|
| 1) Ростовская  | А. Северо-запад  |
| 2) Запорожская | Б. Юго-запад     |
| 3) Харьковская | В. Запад         |
| 4) Луганская   | Г. Юго-восток    |
|                | Д. Северо-восток |
- 41.** Установите соответствие между продукцией и отраслями лесной промышленности:
- |                               |  |
|-------------------------------|--|
| 1) Дрожжи, глюкоза            | А. Гидролизная промышленность          |
| 2) Скипидар, уксусная кислота | Б. Деревообрабатывающая промышленность |
| 3) ДВП, ДСП                   | В. Целлюлозно-бумажная промышленность  |
| 4) Картон                     | Г. Лесохимическая отрасль              |
|                               | Д. Лесозаготовка                       |





## ТЕСТОВЫЕ ЗАДАНИЯ НА ПОСЛЕДОВАТЕЛЬНОСТИ

1. Расположите города Донецкого края в последовательности с запада на восток:  
*А. Горловка*  
*Б. Доброполье*  
*В. Дебальцево*  
*Г. Мариуполь*
2. Установите последовательность тектоно-магматических эпох от самой ранней:  
*А. киммерийская*  
*Б. альпийская*  
*В. герцинская*  
*Г. байкальская*
3. Установите последовательность планов и карт по масштабу от наибольшего к наименьшему:  
*А. обзорно – топографические*  
*Б. план местности*  
*В. обзорные*  
*Г. топографические карты*
4. Расположите районы Донецкого края в последовательности с севера на юг:  
*А. Александровский*  
*Б. Славянский*  
*В. Тельмановский*  
*Г. Амвросиевский*
5. Расположите в хронологической последовательности события, которые характеризуют прошлое нашего края:  
*А. Приазовье входит в состав Российской империи*  
*Б. Дж. Юз строит металлургический комбинат*  
*В. образование Донецкой губернии*  
*Г. основание города Соляное (Славянск)*





## ТЕСТОВЫЕ ЗАДАНИЯ НА ПОСЛЕДОВАТЕЛЬНОСТЬ

6. Установите последовательность карт по масштабу от самого крупного к самому мелкому:  
А. в 1 см – 5,5 км  
Б. 1 : 60 000  
В. в 1 мм – 500 м  
Г. в 1 см – 4000 м
7. Расположите ТЭС Донецкого края последовательно с севера на юг:  
А. Зуевская  
Б. Краматорская  
В. Старобешевская  
Г. Углегорская
8. Расположите названия городов в порядке наступления в них восхода Солнца в день весеннего равноденствия:  
А. Мариуполь  
Б. Торез  
В. Донецк  
Г. Макеевка
9. Расположите в хронологической последовательности от самого раннего известных краеведов, которые занимались изучением нашего края:  
А. Е.Н. Кондратюк  
Б. Н.А. Швеиц  
В. С.Л. Рудницкий  
Г. В.Е. Графф
10. Установите последовательность размещения объектов, которые характеризуют географическое положение Донецкого края в последовательности с запада на восток:  
А. высота 195 м в Краснолиманском районе  
Б. точка, вблизи села Камышеваха Великоновоселковского района  
В. вблизи села Верхний Кут Шахтёрского района  
Г. село Белосарайская Коса Першотравневого района
11. Расположите понятия, которые характеризуют один из этапов развития хозяйственной деятельности, в хронологической последовательности:  
А. товарное хозяйство  
Б. национальный хозяйственный комплекс  
В. натуральное хозяйство  
Г. территориальное разделение труда





12. Установите последовательность действий при определении азимута по плану местности:
- А. сориентировать компас по сторонам горизонта*
  - Б. сориентировать план при помощи компаса: направление на север должно совпадать с северным направлением стрелки компаса*
  - В. определить азимут по шкале компаса*
  - Г. установить компас в той точке плана, откуда необходимо определить азимут на определенный предмет*
13. Установите последовательность событий от наиболее раннего:
- А. возникновение города Бахмут (Артемовск)*
  - Б. город Сталино переименован в город Донецк*
  - В. возникновение города Соляное (Славянск)*
  - Г. образование Донецкой области*
14. Расположите элементы территориальной организации промышленности в порядке возрастания их размеров и значения:
- А. промышленный район*
  - Б. промышленный пункт*
  - В. промышленный узел*
  - Г. промышленный центр*
15. Расположите имена известных краеведов, изучавших территорию Донбасса от самого раннего:
- А. Нестор летописец*
  - Б. Геродот*
  - В. Страбон*
  - Г. Плиний Старший*
16. Восстановите последовательность пунктов плана характеристики отрасли промышленности:
- А. размещение отрасли*
  - Б. исторические условия развития*
  - В. отраслевой состав и продукция, которая производится*
  - Г. производственные особенности*
17. Установите геохронологическую последовательность эр от самой молодой до самой древней:
- А. протерозойская*
  - Б. мезозойская*
  - В. кайнозойская*
  - Г. палеозойская*





## ТЕСТОВЫЕ ЗАДАНИЯ НА ПОСЛЕДОВАТЕЛЬНОСТЬ

18. Расположите ТЭС Донецкого края в порядке уменьшения их производственной мощности:
- А. Зуевская*
  - Б. Кураховская*
  - В. Мироновская*
  - Г. Углегорская*
19. Расположите региональные ландшафтные парки Донецкого края в последовательности с севера на юг:
- А. Клебан–Бык*
  - Б. Меотида*
  - В. Зуевский*
  - Г. Донецкий кряж*
20. Расположите направления внутренних миграционных потоков в последовательности от большей части к наименьшей в общем объеме мигрантов Донецкого края:
- А. из села в город*
  - Б. между селами*
  - В. из города в сельскую местность*
  - Г. из малых городов в большие*
21. Расположите города Донецкого края в последовательности с юга на север:
- А. Енакиево*
  - Б. Угледар*
  - В. Торез*
  - Г. Докучаевск*
22. Расположите реки Донецкого края в последовательности от наибольшей длины протекания территорией области к наименьшей:
- А. Казенный Торец*
  - Б. Волчья*
  - В. Северский Донец*
  - Г. Кальмиус*
23. Установите последовательность городов Донецкого края в порядке увеличения численности населения в них:
- А. Мариуполь*
  - Б. Макеевка*
  - В. Енакиево*
  - Г. Горловка*





24. Расположите предприятия горного машиностроения в последовательности с севера на юг:  
 А. Краматорск  
 Б. Донецк  
 В. Ясиноватая  
 Г. Дружковка
25. Расположите стадии выплавки чёрных металлов в правильной последовательности от начальной до конечной стадии:  
 А. обогащение руды  
 Б. производство ферросплавов  
 В. добыча железной руды  
 Г. выплавка чугуна, стали
26. Установите последовательность в цепочке взаимосвязей между следующими явлениями, которые возникают в развивающихся странах:  
 А. безработица  
 Б. высокий прирост населения  
 В. высокий уровень рождаемости  
 Г. избыток трудовых ресурсов
27. Возле берега косы Бирючий остров сорвался с якоря буй, на котором крепились предупреждения о запрете рыбной ловли. Установить последовательность акваторий Азовского моря, в которых этот буй дрейфует по течению:  
 А. Белосарайский залив  
 Б. Обиточный залив  
 В. Таганрогский залив  
 Г. Бердянский залив
28. Расположите географические объекты в порядке уменьшения величины среднегодового количества осадков:  
 А. Урзуф  
 Б. Донецк  
 В. Краматорск  
 Г. Мариуполь
29. Школьники отправились на экскурсию «Промышленные предприятия нашего края» Маршрут путешествия пролегает с юга на север. Разместите указанные предприятия, согласно заданному маршруту:  
 А. Кураховская ТЭС  
 Б. НКМЗ (г. Краматорск)  
 В. Дружковский фарфоровый завод





## ТЕСТОВЫЕ ЗАДАНИЯ НА ПОСЛЕДОВАТЕЛЬНОСТЬ

Г. «Азовсталь» (г. Мариуполь)

30. Расположите города Донецкого края в порядке уменьшения в них продолжительности светового дня в летний период :

- А. Мариуполь
- Б. Славянск
- В. Угледар
- Г. Донецк



31. Туристы, путешествуя на автомобиле, задумали посетить историко-культурные объекты нашего края. Разместите указанные объекты последовательно с севера на юг:

- А. региональный ландшафтный парк «Меотида»
- Б. Саур-могила
- В. музей Великоанадольского леса
- Г. Святогорский пещерный монастырь

32. Разместите последовательно направления сторон горизонта в порядке увеличения азимута:

- А. западный
- Б. северо – западный
- В. северо – восточный
- Г. юго-западный

33. Установите последовательность размещения с севера на юг месторождений полезных ископаемых осадочного происхождения:

- А. Часоваярское (огнеупорные глины)
- Б. Славянское (каменная соль)
- В. Резниковское (фосфориты)
- Г. Петрово-Гнутовское (флюориты)

34. Расположите названия типов сельскохозяйственных угодий в порядке уменьшения части занимаемой ими площади на территории Донецкого края:

- А. сенокосы
- Б. сады и ягодники
- В. пашня
- Г. пастбища

35. Установите последовательность периодов геологических эр от самого древнего:

- А. палеогеновый
- Б. триасовый



- В. каменноугольный*  
*Г. ордовикский*
- 36.** Установите последовательность размещения с юга на север водохранилищ нашего края:  
*А. Старобешевское*  
*Б. Кураховское*  
*В. Краснооскольское*  
*Г. Старокрымское*
- 37.** Установите последовательность видов транспорта по объему грузооборота в мировой транспортной системе (от наибольшего):  
*А. железнодорожный*  
*Б. автомобильный*  
*В. морской*  
*Г. трубопроводный*
- 38.** Установите последовательность эпох горообразования от самой древней:  
*А. киммерийская*  
*Б. альпийская*  
*В. герцинская*  
*Г. байкальская*
- 39.** Расположите районы Донецкого края в соответствии с возрастанием их площади территории:  
*А. Амвросиевский*  
*Б. Волновахский*  
*В. Старобешевский*  
*Г. Новоазовский*
- 40.** Установите последовательность эр формирования Земли от раннего до позднего:  
*А. Мезозойская эра*  
*Б. Кайнозойская эра*  
*В. Палеозойская эра*  
*Г. Протерозойская эра*





## БЛИЦ-ЗАДАНИЯ

### БЛИЦ-ЗАДАНИЯ



1. Литосферная плита, на которой мы живем.
2. Какое событие произошло в 1869 году?
3. Направление, по которому вы будете возвращаться домой, если в школу шли по азимуту  $45^{\circ}$ ?
4. Кто из древних ученых сделал первые описания земель Приазовья?
5. Географическая широта г. Донецка.
6. Национальное меньшинство Донецкого края, которое компактно проживает в Приазовье.
7. Географическая долгота г. Донецка.
8. Современная геологическая эра.
9. Угол, который образован между северным направлением вертикальной линии сетки и направлением на объект.
10. Административный район Донецкого края, в котором находится зоологический памятник природы Кривая коса.
11. Группа промышленности, к которой относится Шахтерская швейно-трикотажная фабрика.
12. Отрасль промышленности, которая выпускает горно-шахтное оборудование.
13. Форма общественной организации производства, при которой на одном предприятии выпускается определенный вид продукции.
14. Климатический пояс с четко выраженными временами года.
15. Южная крайняя точка Донецкого края.
16. Уменьшенное и обобщенное изображение земной поверхности на плоскости.
17. Вид электростанций, к которому относится Кураховская электростанция.
18. Административный район Донецкого края, в котором находится лесной заказник Великоанадольский лес.
19. Крупнейшее в Европе месторождение ртутных руд, расположенное на территории Донецкого края.





20. Отрасль промышленности, которая выпускает сельско-хозяйственную технику.
21. Явление, при котором численность населения страны постоянно уменьшается.
22. Сторона горизонта, которая находится противоположно северо-восточного направления.
23. Долгота, которую имеют все географические объекты Донецкого края.
24. Геологическая эра, в которой накопились угольные толщи Донецкого бассейна.
25. Основатель Великоанадольского лесничества.
26. Группа промышленности, которая выпускает товары потребления.
27. Наивысшая точка Европы.
28. Разница во времени между соседними меридианами.
29. Отрасль промышленности, к которой относится Харцызский трубный завод.
30. Атмосферный вихрь, для которого в Донецком крае характерна сухая погода летом, морозная – зимой.
31. Азимут, который имеет северо-западное направление.
32. Форма рельефа Донецкого края, в пределах которой находится Могила Острая.
33. Сфера хозяйственного комплекса, к которому относится образование.
34. Длина экватора.
35. Административный район Донецкого края, в котором находится урочище Каменные могилы.
36. Отрасль промышленности, которая производит электричество.
37. Отрасль хозяйственного комплекса, к которой относится предприятие «Геркулес» в г. Донецке.
38. Тип ведения хозяйства, при котором модернизируется производство, внедряются новые технологии.
39. Дата дня осеннего равноденствия.
40. Сфера хозяйственного комплекса, к которому относится машиностроение.
41. Отрасль промышленности, которая выпускает ферросплавы.





### **БЛИЦ-ЗАДАНИЯ**

42. Картографические проекции, которые не искажают площади.
43. Отрасль хозяйственного комплекса, к которой относится Горловский «Стирол».
44. Условная линия, проходящая на  $23^{\circ}30'$  с. ш.
45. Азимут, который имеет южное направление.
46. Форма рельефа Донецкого края, в пределах которой находится Могила Гончариха.
47. Сфера хозяйственного комплекса, к которому относится химическая промышленность.
48. Группа промышленности, которая выпускает предметы потребления.
49. Отрасль промышленности, которая выпускает оборудования.
50. Первое название города Донецка.
51. Период времени, за которое Земля поворачивается на  $30^{\circ}$ .
52. Тип ведения хозяйства, при котором происходит расширение производства за счет строительства новых предприятий, эксплуатации новых месторождений.
53. Условная линия, проходящая на  $23^{\circ}30'$  ю. ш.
54. Сторона горизонта, которая находится противоположно северо-западной стороне.
55. Форма рельефа Донецкого края, в пределах которой находится Саур-Могила.
56. Сфера хозяйственного комплекса, к которому относится культура и спорт.
57. Место, где река впадает в водоём.
58. Климатический пояс, в пределах которого расположен Донецкий край.
59. Отрасль промышленности, которая выпускает мобильные телефоны.
60. Процесс отбора и обобщения изображаемых на карте географических объектов.
61. Тип ведения хозяйства, при котором происходит расширение производства за счет строительства новых предприятий, эксплуатации новых месторождений.
62. Сфера хозяйственного комплекса, к которому относится электроэнергетика.
63. Река, в которую впадает Северский Донец.
64. Административный район Донецкого края, на территории которого находится Кураховская ТЭС.



65. Чертеж местности, выполненный с помощью условных знаков в крупном масштабе.
66. Самый соленый залив Азовского моря.
67. Картографическая проекция, которая используется для правильного изображения Антарктиды.
68. Возвышенность на юго-западе Донецкого края.
69. Самая высокая форма рельефа Донецкого края.
70. Сфера хозяйственного комплекса, к которому относится металлургия.
71. Вид электростанций, к которому относится Старобешевская электростанция.
72. Расстояние в градусной мере от экватора до полюсов.
73. Природная зона, представителями которой является типчак и ковыль.
74. Отрасль хозяйственного комплекса, к которой относится комбинат «Азовсталь».
75. Азимут, который имеет северо-восточное направление.
76. Следствие орбитального движения Земли.
77. Сторона горизонта, которая находится противоположно юго-восточному направлению.
78. Отрасль промышленности, которая выпускает горно-шахтное оборудование.
79. Административный район Донецкого края, в котором расположена ветровая электростанция.
80. Вид электростанций, к которому относится Зуевская электростанция.
81. Форма рельефа, расположенная на юге Донецкого края.
82. Вид электростанций, к которому относится Углегорская электростанция.
83. Географический центр Донецкого края.
84. Форма общественной организации производства, при которой на одном предприятии объединены все стадии переработки определенной продукции.
85. Тип поселения, к которому относится слияние городов Донецка и Макеевки.
86. Широта, которую имеют все географические объекты Донецкого края.





### **БЛИЦ-ЗАДАНИЯ**

87. Отрасль промышленности по характеру производства, которая плавит металл.
88. Вид карт по масштабу, к которому относится карта масштаба в 1 см – 5 км.
89. Топливное полезное ископаемое – основа энергетики Донецкого края.
90. Географические координаты Южного Полюса.
91. Отрасль хозяйственного комплекса, к которой относится Мариупольский завод им. Ильича.
92. Полезное ископаемое Донецкого края, месторождение которого расположено в Никитовке.
93. Отрасль промышленности, которая изготавливает стиральные машины.
94. Наука, изучающая географические названия.
95. Заповедник – целинная степь в Новоазовском районе.
96. Страна – главный внешнеторговый партнер Донецкого края.
97. Картографическая проекция, при которой параллели и меридианы представлены в виде прямых линий.
98. Город Донецкого края, в котором расположена Старобешевская ТЭС.
99. Основной канал, который является источником водоснабжения Донецкого края.
100. Административный район Донецкого края, в котором находится лесной заказник Бердянский.
101. Водохранилище, созданное в центре г. Донецка.
102. Отрасль промышленности, которая выпускает лакокрасочные изделия.
103. Вид карт по масштабу, к которому относится карта масштаба в 1 см – 1250 км.
104. Направление движения туриста, у которого Полярная звезда слева.
105. Административный район Донецкого края, в котором находится ландшафтный заказник Горы Артёма.
106. Линии на карте, соединяющие все точки с одинаковыми значениями атмосферного давления.
107. Отрасль промышленности, которая выпускает бытовую технику.
108. Направление движения туриста, у которого Полярная звезда справа.
109. Река Донецкого края, в верховьях которой находится заповедник Каменные Могилы.
110. Часть платформы – место выхода кристаллического фундамента.





- 111.* Период, за который Земля совершает полный оборот вокруг Солнца.
- 112.* Река Донецкого края, притоком которой является р. Волчья.
- 113.* Город Донецкого края, в котором развито трубное производство.
- 114.* Сторона горизонта, которой соответствует азимут  $270^0$ .
- 115.* Административный район Донецкого края, в котором расположена ветровая электростанция.
- 116.* Основной фактор размещения предприятий по производству хлебо-булочных изделий.
- 117.* Количество часовых поясов на Земле.
- 118.* Океан, в пределах которого находятся острова Новая Зеландия.
- 119.* Самый большой город по количеству населения в Донецком крае.
- 120.* Выезд граждан за пределы страны на постоянное место жительства.
- 121.* Горообразование, при котором сформировалась Донецкая складчатая область.
- 122.* Климатический пояс с четко выраженными временами года.
- 123.* Река Донецкого края – левый приток Днепра, которая относится к бассейну Черного моря.
- 124.* Сторона горизонта, которой соответствует азимут  $180^0$ .
- 125.* Океан, к бассейну которого относятся реки Донецкого края.
- 126.* Математический способ изображения сферической земной поверхности на плоскости.
- 127.* Крупный центр цементной промышленности Донецкого края, работающей на собственном сырье.
- 128.* Укажите разницу во времени между соседними меридианами.
- 129.* Основная река Донецкого края – приток Дона.
- 130.* Наивысшая точка Донецкого края.

*Учебное пособие*

# **Сборник заданий по географии родного края**

Технический редактор, корректор Шевченко И.В.